

成都石室中学 2022 -2023 学年度下期高 2023 届三诊模拟考试

文科综合

第 I 卷（选择题，共 140 分）

本卷共 35 个小题，每小题 4 分，共 140 分。在每小题给出的四个选项中，只有一项是符合题目要求的。

2022 年，中国人口出现近 61 年来的首次负增长。下图为 2010~2020 年中国总人口及自然增长率变化图。据此完成 1~2 题。



1. 据图可知

- A. 人口总量持续增长 B. 2012 年净增加人口数最多
C. 出生率在持续下降 D. 2022 年人口性别比最合理

2. 现阶段我国人口变化会导致

- A. 养老负担加重 B. 年龄结构优化 C. 环境承载力下降 D. 就业岗位增多

德国为世界传统汽车生产大国，汽车产业逐渐向电动化方向发展。动力电池是电动汽车的重要部件。我国某动力电池制造龙头企业于 2019 年到德国埃尔福特市投资建设动力电池生产基地，随后国内众多动力电池产业链的上游企业也相继到该生产基地附近投资建厂。据此完成 3~5 题。

3. 德国吸引我国动力电池龙头企业投资建设生产基地的突出优势是

- A. 技术水平 B. 市场潜力 C. 基础设施 D. 管理经验

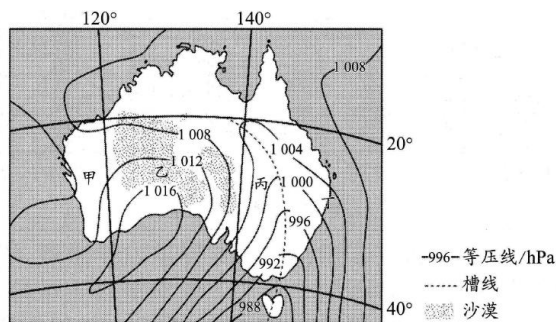
4. 国内众多动力电池产业链的上游企业到埃尔福特生产基地附近建厂，可以节省

- A. 劳动力成本 B. 原料运输成本 C. 产品营销成本 D. 生产设备成本

5. 电动化趋势对德国汽车产业的主要影响是

- A. 扩大生产规模 B. 提高产品质量 C. 促进转型升级 D. 降低生产成本

2002 年 10 月 22~23 日，一场沙尘量创纪录的沙尘暴袭击了澳大利亚部分地区。下图示意澳大利亚及周边区域当地时间 10 月 23 日 4 时的海平面气压分布，甲、乙、丙、丁四地区中某一地区正在经历沙尘暴。据此完成 6~8 题。



6. 10月23日4时正在遭受沙尘暴影响的地区是

- A. 甲 B. 乙 C. 丙 D. 丁


7. 与10月23日相比, 经历此次沙尘暴地区10月22日的风向和气温特征是

- A. 偏北风, 气温较低 B. 偏西(南)风, 气温较低
C. 偏北风, 气温较高 D. 偏西(南)风, 气温较高

8. 下列关于图示地区的叙述, 较为合理的是

- A. 甲西侧海域, 海雾多现 B. 乙附近地区, 林火频发
C. 丙附近河流, 冬汛显著 D. 丁附近海域, 地热丰富

植被是气候变化最直接、最灵敏的“指示器”, 通过对植被的研究可获得气候变化信息。黄土高原南部白水河两岸分布有多处人类文明遗址, 气候变化是影响该地区人类活动及文化演化的重要原因。下图为白水河流域距今5.53~4.12千年前各类种属植被数量变化图。据此完成9~11题。



9. 与现代相比, 距今5.53~4.12千年前白水河流域植被最突出的特征是

- A. 耐寒植物丰富度高 B. 亚热带种属数量多
C. 温带物种优势明显 D. 耐旱植物占比更大

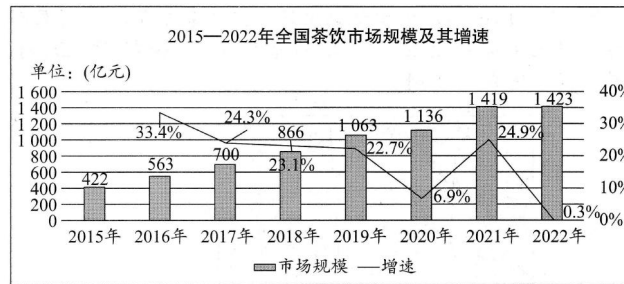
10. 距今5.53~4.12千年期间白水河流域气候变化的总趋势是

- A. 暖湿→冷干 B. 冷干→暖湿 C. 暖湿→暖干 D. 冷湿→暖湿

11. 图示时期内的气候变化并未导致白水河流域文化出现明显的衰退, 原因可能是

- A. 人口数量大量增长 B. 农业生产水平提高
C. 工业生产发展迅速 D. 耕地面积规模变大

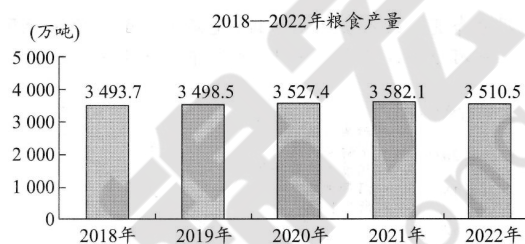
12. 有报告分析称, 茶饮品类主要经历了三个发展阶段, 分别是以珍珠奶茶为主的1.0“粉末调制阶段”, 主打“茶叶+牛奶”的2.0“街头阶段”, 以及以鲜果鲜奶为主的3.0“新式茶饮阶段”。据行业相关预测, 新中式美学、鲜果健康或成下一个增长点, 在茶饮4.0阶段, 多个茶饮品牌或将成功走出国门, 布局全球化市场。依据下图信息, 可以推断目前该行业



- A. 市场规模下降，消费潜力有待进一步激活 B. 赛道内卷激烈，资本趋于理性
C. 已结束疯狂“跑马圈地”，发展潜力不足 D. 供应链自主可控，更加标准化国际化
- 13.3月27日迎来了2023年央行的首次降准。中国人民银行宣布下调金融机构存款准备金率0.25个百分点，同时以利率招标方式开展了2550亿元逆回购操作，期限为7天，中标利率为2.00%。以下传导路径正确的是

- ①积极的货币政策→减轻企业负担→发展壮大实体经济→经济平稳健康发展
②扩大银行信贷规模→缓解企业融资难题→研发投入增加→提高企业创新能力
③央行在市场上出售债券→释放货币的流动性→扩大社会总需求→拉动经济增长
④保持流动性合理充裕→降低企业融资难度→激发企业投资需求→促进实体经济发展
- A. ①③ B. ②④ C. ②③ D. ③④

14.保障粮食安全是建设农业强国的头等大事，四川省作为粮食生产大省，始终深耕粮食生产，下图是近几年四川省粮食产量情况。下列推导中，表述合理且与下图信息一致的是



- ①四川省全面实施乡村振兴战略→强化以工补农→发展农业科技→提高劳动生产率
②四川省坚持绿色发展理念→推进工业节能减排→耕地面积持续扩大→粮食产量增加
③发挥四川省政府经济职能→财政补贴支持农业→提高农民收入预期→调动农民种粮积极性
④四川省坚持“两个毫不动摇”→加强农业社会化服务→农业适应市场经济→稳定农业生产
- A. ①② B. ①③ C. ②④ D. ③④

15.2023年是“一带一路”倡议提出十周年。十年来，中国与沿线国家经济深度融合，中国已与151个国家和32个国际组织签署200余份共建“一带一路”合作文件。“一带一路”大家庭“朋友圈”越来越大，合作质量越来越高，发展前景越来越好的原因有

- ①推动区域经济一体化，让发展成果更多惠及各国人民
②坚持独立自主、自力更生的原则，以引技为主提高创新能力
③摒弃“零和博弈”思维，坚持共商共建共享原则，深化互利共赢
④适应全球化趋势，完善互利共赢、多元平衡、安全高效的开放型经济体系
- A. ①② B. ③④ C. ②③ D. ①④

16.科技赋能司法，智慧法院应运而生。一站式诉讼服务、全流程“掌上办”、跨域立案、在线诉讼、电子送达、执行平台公开透明……在科技的助力下，我国各地智慧法院建设实现从无到有、从有到优，让人民共享司法数字化的便利，让司法工作实现质量变革、效率变革、动力变革。这体现了发展智慧法院

- ①创新诉讼模式，提高司法效率，降低诉讼成本
②公开透明，保障了公民对司法活动的知情权、审判权

- ③提高司法为民的服务水平，增强人民幸福感、获得感
④引领世界潮流，为国际社会提供司法现代化的中国智慧
A. ②③ B. ②④ C. ①③ D. ③④

17.下面是 2023 年 4 月 1 日起施行的《中华人民共和国黄河保护法》的部分规定。下述规定要求各级政府

◇第三条:坚持中国共产党的领导,落实重在保护、要在治理的要求,加强污染防治,贯彻生态优先、绿色发展,量水而行、节水为重,因地制宜、分类施策,统筹谋划、协同推进的原则。
◇第五条:国务院有关部门按照职责分工,负责黄河流域生态保护和高质量发展相关工作。
◇第六条:黄河流域县级以上地方人民政府有关部门按照职责分工,负责本行政区域黄河流域生态保护和高质量发展相关工作。

- ①坚持中国共产党的领导，形成保护发展的合力
②履行法律监督职能，推动黄河保护法有效施行
③合理配置行政资源，为履行职责提供有力支撑
④贯彻民主集中制原则，把黄河保护列为核心工作
A. ①③ B. ②④ C. ②③ D. ③④

18.2023 年 2 月 24 日，我国外交部发布《关于政治解决乌克兰危机的中国立场》文件。文件全面系统地阐释中方的有关基本立场主张，为推动政治解决乌克兰危机指明了正确路径，回应了国际社会的普遍关切，彰显了中国作为负责任大国的担当。这体现了

- ①我国在维护自身利益的同时兼顾他国合理关切
②我国践行全球安全倡议，推动构建人类命运共同体
③我国积极促进世界多极化发展，构建新型国际关系
④我国坚持独立自主的基本立场，积极发挥建设性作用
A. ①② B. ②④ C. ①③ D. ③④

19.“一朝步入画卷，刹那梦回千年”。2023 年 3 月 21 日，成都地铁“江山如画号”主题列车在 1 号线正式上线。聚焦宋代文化，分为“宋代词作”“宋代四艺”“宋代画作”3 个主题。通过清新色彩和山水画景营造沉浸式列车空间，展示宋代美学的独特意境。用文化赋予地铁生机与活力旨在

- ①展示源远流长博大精深的中华文化，增强文化认同
②让乘客在潜移默化中领略中华优秀传统文化的魅力
③是对传统文化的当代表达，赋予了地铁新的生命力
④促进文化与经济相互交融，提高成都地铁经济效益
A. ①② B. ①④ C. ②③ D. ③④



20.2023 年 3 月 5 日是毛泽东“向雷锋同志学习”题词发表 60 周年纪念日。近日，习近平总书记强调要深刻把握雷锋精神的时代内涵，不断发展壮大学雷锋志愿服务队伍，让学雷锋在人民群众特别是青少年中蔚然成风，让雷锋精神在新时代绽放更加璀璨的光芒，为全面建设社会主义现代化国家、全面推进中华民族伟大复兴凝聚强大力量。雷锋精神

- ①反映了向上向善的共同价值追求
②是凝魂聚气、强基固本的基础性工程
③是中华民族独特的精神标识，丰富了民族精神的内涵
④能更好引领人们服务社会，在劳动奉献中实现人生价值
A. ①② B. ③④ C. ②③ D. ①④

21.ChatGPT 不仅能回答人类提出的一般性问题，也能完成撰写邮件、视频脚本、文案、翻译、代码、写论文等任务，成功从科技界破圈，成为历史上增长最快的消费者应用程序。但它的

应用也面临各种挑战，比如学生拿它写作业，黑客拿它写代码用于网络攻击，诈骗犯拿它开设“杀猪盘”。近日，ChatGPT 因涉嫌侵犯用户隐私，遭意大利禁用。这体现了

- ①ChatGPT 的能动性高于以往的人工智能
- ②ChatGPT 的出现能够延伸人类的认识器官
- ③要用矛盾的观点看问题，分清主流和支流
- ④任何事物都有利弊两面，要一分为二地看问题

A. ①③ B. ②④ C. ②③ D. ③④

22. 习近平用典是习近平新时代中国特色社会主义思想与中华优秀传统文化的结合，是中国智慧、中国力量、中国风范的当代体现。下列关于习近平用典和相应的主要哲学原理的对应，不正确的是

序号	习近平用典	主要哲学原理
①	人生万事须自为，跬步江山即寥廓	量变是质变的前提和必要准备
②	安危不贰其志，险易不革其心	事物的发展是前进性和曲折性的统一
③	学贵知疑，小疑则小进，大疑则大进	辩证法的本质是批判的、革命的、创新的
④	团结奋斗是中国共产党和中国人民最显著的精神标识	人民群众是社会历史的主体

A. ②④ B.①② C. ①③ D. ③④

23.国务院机构改革是 2023 年两会的热点之一。国务院机构改革的重点是加强科学技术、金融监管、数据管理、乡村振兴、知识产权、老龄工作等重点领域的机构职责优化和调整，这对于全面建设社会主义现代化国家、全面推进中华民族伟大复兴意义重大而深远。国务院机构改革体现了

- ①上层建筑为经济基础服务，推动社会生产力的发展
- ②抓主流，有利于全面实现社会主义现代化
- ③基于社会存在不断变化的客观实际
- ④改革开放是决定当代中国命运的关键一招

A. ①③ B. ①④ C. ②③ D. ③④

24.饕餮纹最早出现在良渚、龙山等文化的玉器、陶器上，也称兽面纹，融合虫、鱼、鸟、兽等多种动物元素，有“驱鬼辟邪”之义。青铜器上的兽面纹则出现在夏代，商代和西周早期纹饰神态愈加生动，形状复杂多变，应用更普遍。饕餮纹的流变说明

- A. 夏商西周时期迈入阶级社会
- B. 专制主义中央集权制度形成
- C. 早期文明国家机构趋于完善
- D. 多元一体发展基础基本奠定

25.汉初，为了解决物资匮乏、通货膨胀的问题，政府实行了“令民铸钱”的政策。而到武帝时期，国家不仅垄断了主要铸币材料铜，还成立了专门的铸币机构负责铸钱。汉代货币政策的调整

- A. 有利于民间财富的增长
- B. 为了满足国家财政的需要
- C. 遏制了商品经济的发展
- D. 反映出了均输平准的特点

26.下表所示为宋代耕牛贸易摘录。据此可知，宋代

时间	摘录
太宗时期(976—997 年)	贷陈、蔡州(河南地区)民钱。以便其买牛而耕
哲宗元祐六年(1091 年)	拨常平钱贷麟、府、丰州(与西夏边境地区的州府)曾经被西贼劫掠耕牛的人户买牛
高宗建炎二年(128 年)	拨五万贯贷淮东(江苏安徽地区)人户买牛

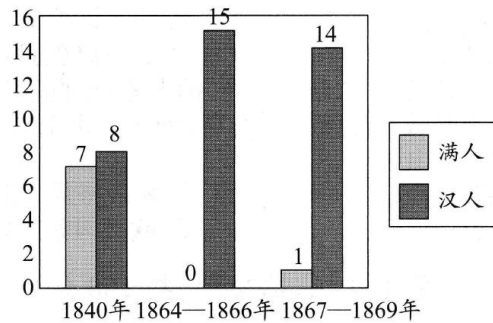
- A.官府推行抑商政策
- B. 农耕技术实现了突破
- C. 小农经济得到维护
- D.牛耕生产区域差异大

27.黄宗羲提出“缘夫天下之大，非一人之所能治，而分治之以群工”。顾炎武倡导“自公卿大夫，至于百里之宰，一命之官，莫不分天子之权，以各治其事，而天子之权乃益尊”。由此可

知，黄宗羲和顾炎武的思想主张的共同之处是

- A. 分化事权反对君主专制 B. 模仿西方建立民主制度
C. 经世致用维护天子威严 D. 工商皆本适应时代要求

28. 下图是太平天国前后满人和汉人出任巡抚的比例变化情况。此变化



- A. 根源于民族资本主义初步发展 B. 开启了中国近代化的历程
C. 揭开了中国向西方学习的序幕 D. 促使清政府中央权力下移

29. 一战后，在陈独秀提出“德先生”与“赛先生”说法的基础上，有人提出，还需要加上“费先生”(Philosophy)或“穆姑娘”(Morality)，主张以哲学和道德来弥补民主与科学的不足，这样才能更为全面地刻画西方现代文明的根本特征。这一认识反映出当时

- A. 知识界对西方文明有所反思 B. 马克思主义在中国广泛传播
C. 一战诱发了传统文化的转型 D. 国人民族民主意识逐渐觉醒

30. 1932年12月1日，江西省苏维埃政府正式明确规定了红军公田留置数额。各乡红军公田数目，经由县苏维埃、省苏维埃层层汇总审核，报与中央。红军总政治部根据外籍红军人数和各县公田数统一协调，分配给家在白区的红军。这展示出

- A. 中共强大的革命动员能力 B. 红军经济上完全自给自足
C. 白区民众积极投身土地革命 D. 苏维埃政府落实三三制原则

31. 1984年到1988年，我国乡镇企业的数量平均每年增长52.8%，从业人数平均每年增长20.8%，总收入平均每年增长58.4%。这一时期乡镇企业迅猛发展的主要原因是

- A. 市场经济的不断完善 B. 农村改革的日益深化
C. 人民公社体制的废除 D. 农村基层自治的实现

32. 公元前461年，斯巴达驱赶雅典军队引起了雅典人的极度反感。民主派伯里克利利用人们的愤怒情绪，将贵族派著名将军客蒙以“斯巴达朋友”的名义放逐。雅典在埃及遭遇惨败后又将客蒙召回，他在战场上的出色表现扭转了雅典人对他的看法。这表明

- A. 民主派和贵族派矛盾尖锐 B. 城邦之间征战频繁
C. 民众的喜好决定城邦命运 D. 决策体现权力来源

33. 从19世纪后期到第一次世界大战爆发前，国际贸易迅速发展（如下表所示）。现有研究表明，1870到1914年间经济全球化达到一个小高潮。其主要原因是

世界贸易指数和世界贸易总额		
年份	贸易指数(以1913年为100)	贸易总额(单位:10亿法郎)
1870	24	45.5
1880	36	68.8
1890	49	94.2
1900	68	118.2
1910	86	162.4
1913	100	192.4

- A. 世界贸易总额迅猛增长直接推动 B. 工业革命推动世界经济体系化、制度化
C. 资本主义世界市场的进一步发展 D. 资本主义进入相对稳定与和平发展时期

34. 1917年11月，苏俄政府颁布法令，规定废除地主土地所有制，农民可以自由支配土地。

内战爆发后，政府又决定在土地国有化的基础上推行“共耕制”。1921年3月，苏俄政府颁布法令，肯定了土地国有化下农民土地的占有形式，反对国家无故收回农民的土地。这一时期的土地政策的变化

- A. 体现出了工农联盟的扩大 B. 切实维护了农民的利益
C. 实现了对小农经济的改造 D. 始终以巩固政权为根本

35.美国的《新闻周刊》曾生动地描述了“新殖民者”的形象，他们手拿的是计算器而不是枪支，他们穿的是上班的服装而不是战斗服装，他们宣传的是自由市场经济的福音而不是传教的福音。“殖民者”形象的转变是由于

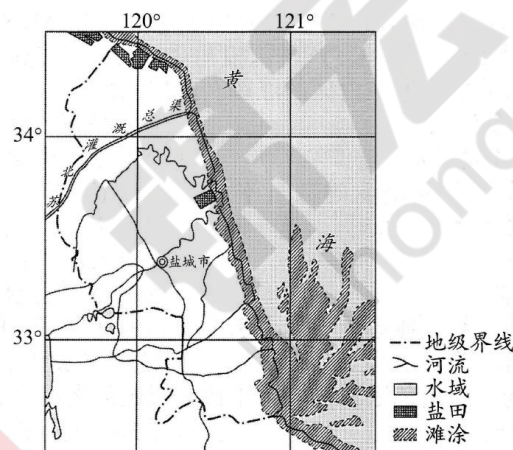
- A. 旧国际秩序的长期存在 B. 两极格局的形成与瓦解
C. 战后民族解放运动高涨 D. 欧美国家实力普遍衰落

第II卷（非选择题，共160分）

本卷包括必考题和选考题两部分。第36题～第42题为必考题，每个试题考生都必须作答。第43题～第46题为选考题，考生根据要求作答。

36. (22分) 阅读图文资料，完成下列要求。

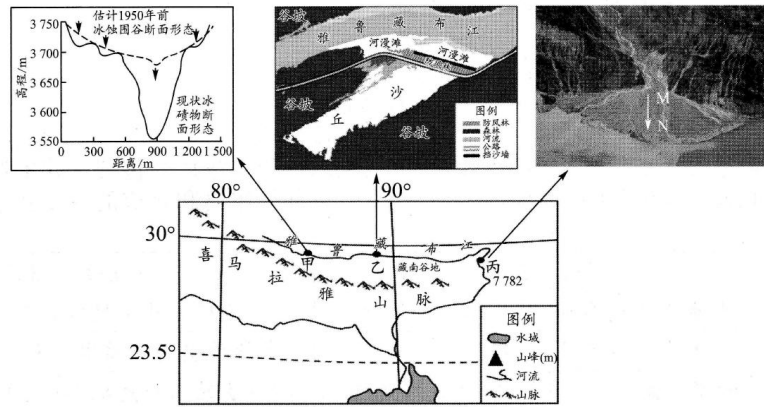
沿海滩涂因土壤盐度高、有机质含量少，一直难以发展种植业。江苏盐城市（下图）的滩涂占江苏省滩涂面积的65%以上。近年来，盐城市在滩涂上种植用海水浇灌的蔬菜（主要为海蓬子、碱蓬），海水蔬菜具有抗盐、聚盐和抗病虫害强的特点，好吃、营养，且具有一定的保健作用，深受国内外市场青睐。



- (1)从地理位置角度，分析盐城市种植海水蔬菜的区位优势。（6分）
(2)与普通蔬菜种植相比，说明海水蔬菜种植所特有的环境效益。（6分）
(3)分析海水蔬菜深受市场青睐的原因。（4分）
(4)为了进一步做大做强盐城市海水蔬菜产业，请提出合理化建议。（6分）

37. (24分) 阅读图文材料，完成下列要求。

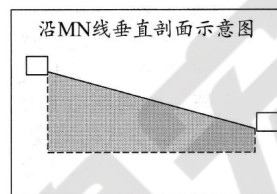
雅鲁藏布江地处青藏高原南部，是一条神奇的大江：它是一条流淌在峡谷中的江，位于甲地的河谷呈现“U”形，全程有一半的流程是在峡谷中进行，被称为“峡江”。它是一条流经沙漠的江，年均降水量为252~580mm，集中于5~9月，大风集中于冬春两季(12月至次年5月)；位于乙地附近的河段是我国河谷风沙地貌最发育的地区，沿途沙丘广布，被称为“沙江”。它是一条流经多个冲积扇的江，位于丙地附近的河段在丰沛水流的作用下多形成冲积扇，被称为“扇江”。下图中下部为雅鲁藏布江流域示意图，上部为甲处河谷横剖面上形态的变化示意图、乙地风沙地貌分布示意图和丙处冲积扇景观图。



- (1)从地形角度，分析雅鲁藏布江流域蒸发系数（蒸发量占降水量的比重）低的原因。（6分）
- (2)推测甲处附近断面形态形成的主要过程。（6分）
- (3)判断乙处沙丘一年中面积增长最慢的季节，并分析成因。（6分）
- (4)画出丙处堆积物沿MN方向的主要特征，并分析原因。（6分）

要求：①在方框内注明M、N点，表示出沿线的地势高低；

②设计符号，在图中灰色区域表示表层沉积物粒径的空间分布特征（如用点或圈的大小来表示）。



38.（14分）阅读材料，完成下列要求。

材料 2023年是“一带一路”倡议提出10周年，十年来，在各方共同努力下，“一带一路”朋友圈不断扩大。沿线国家货物贸易额从1.04万亿美元扩大到2.07万亿美元，近翻了一番，为沿线国家的发展注入了蓬勃动力。中国企业在“一带一路”沿线国家建设的境外经贸合作区累计投资达571.3亿美元，越来越多的国家和地区正通过这一倡议搭乘发展“快车”，与中国共享发展机遇。2011年首辆中欧班列成功开行，2022年中欧班列开行1.6万列、发送160万标箱，西部陆海新通道班列发送货物75.6万标箱。随着“一带一路”沿线国家的交流合作不断加深，其催生出的许多以互利互惠为原则的全球公共产品越来越受到欢迎。中国同各方一道完善“一带一路”绿色发展合作机制，通过实施“绿色丝路使者计划”，为120多个共建“一带一路”国家培训绿色发展人才3000人次。与此同时，“一带一路”已经成为了中国品牌实现全球化的新引擎，长城汽车构建了以中国总部为核心，涵盖欧洲、亚洲、北美的全球研发布局，在奥地利等“一带一路”沿线国设立海外研发中心，助力长城汽车在世界舞台尽显中国品牌力量。“一带一路”以设施联通促民心相通，助力各国共同合作、共同受益，为百年变局下的世界带来暖意。

共建“一带一路”为经济全球化注入不竭动力。结合材料并运用经济生活知识，对此观点加以分析。（14分）

39.（12分）阅读材料，完成下列要求。

材料 习近平总书记在党的二十大报告中强调，要发展全过程人民民主，全面发展协商民主，保障人民当家作主。近年来，深圳市政协积极探索全过程人民民主的实现路径，走出了一条具有深圳特色、深圳风格、深圳智慧的协商民主先行示范之路，讲好了一个“中国式商量”的深圳故事。

深圳市政协倾心打造了包括真实记录各界人士在深圳造梦、追梦、圆梦故事的“深圳口述史”，

与市民群众交流互动、体察民情民意的“政协热线”，营造生动活泼、畅所欲言协商氛围的“深聊会”等在内的 13 种各具特色的协商平台和履职载体。在协商内容方面，深圳市政协明确的协商议题有 93 项，包括经济建设议题 33 项，政治建设议题 5 项，文化建设议题 11 项，社会建设议题 32 项，生态文明建设议题 12 项。在协商规则方面，市委出台《法治深圳建设规划（2021-2025 年）》，首次提出的“健全立法协商机制”为市政协开展立法协商提供了强有力的制度支撑；近 3 年制定或修订的工作制度有 100 多项，其中《深圳市政协清单式提案工作标准》开创了提案工作地方标准先河。通过深入探索，形成了“1+ 10+N”专门协商机构工作体系，提升了政协工作的制度化、规范化、程序化水平。依托“书香政协”“深政学堂”“委员工作站”丰富政协委员的知识储备和专业素养，强化政协委员为民解忧的担当精神和责任意识。“中国式商量”的深圳智慧成为建设深圳先行示范区源源不断的动力。

结合材料和所学政治生活知识，谈谈“中国式商量”的深圳智慧对推进我国社会主义协商民主的有益启示。（12 分）

40. （26 分）阅读材料，完成下列要求。

材料一 2022 年是我国现行宪法公布实施四十周年。宪法的发展过程就是新中国的发展过程。修宪是时代大势所趋、事业发展所需、党心民心所向，是推进全面依法治国、推进国家治理体系和治理能力现代化的重大举措。40 年来，我国根据实践发展，先后 5 次对现行宪法做出修改和完善，不断推进宪法与时俱进。

时间	修改的背景	修改的内容（部分）
◆1988 年 4 月 12 日，第七届全国人民代表大会第一次会议通过宪法修正案	随着商品经济的实施、私营经济和对外开放的发展，作为基本生产要素之一的土地成为企业扩大生产规模、进一步发展的重要条件。	确立了私营经济的合法地位，规定私营经济是社会主义公有制经济的补充。土地的使用权可以依照法律的规定转让。
◆1993 年 3 月 29 日，第八届全国人民代表大会第一次会议通过宪法修正案	把马克思主义基本原理与中国社会具体的发展实践相结合是改革开放能够取得胜利的根本原因，中国特色社会主义理论由此逐步形成和发展。	把“社会主义初级阶段”“建设中国特色社会主义”“改革开放”等内容正式写入宪法。规定我国实行社会主义市场经济。
◆1999 年 3 月 15 日，第九届全国人民代表大会第二次会议通过宪法修正案	在改革开放的这一伟大历史实践中，以探索建设有中国特色社会主义道路为鲜明特点的邓小平理论逐渐形成，并且成为指导实践的重要理论指南。	将“邓小平理论”写进宪法序言。规定我国实行依法治国。坚持公有制为主体、多种所有制经济共同发展的基本经济制度。
◆2004 年 3 月 14 日，第十届全国人民代表大会第二次会议通过宪法修正案	在改革开放新时期，时代变化对党和国家工作提出了新要求，中国共产党对自身也提出了更高要求。	将“三个代表”重要思想写入宪法。公民的合法私有财产不受侵犯。国家尊重和保障人权。
◆2018 年 3 月 11 日，第十三届全国人民代表大会第一次会议通过宪法修正案	改革开放 40 年来，中国社会发生了日新月异的可喜变化。人民群众选择在中国共产党的带领下实现民族独立和民族富强，这也是历史赋予党的时代使命。	把科学发展观、习近平新时代中国特色社会主义思想写入宪法。把“中国共产党领导是中国特色社会主义最本质的特征”写入宪法。将社会文明、生态文明作为中国特色社会主义事业总体布局的重要方面充实进宪法。

材料二 宪法是国家的根本法，是治国安邦的总章程，具有最高的法律地位、法律权威、法

律效力。全面贯彻实施宪法，是全面推进依法治国、建设社会主义法治国家的首要任务和基础性工作。宪法的根基在于人民发自内心的拥护，宪法的伟力在于人民出自真诚的信仰。为了增强全社会的宪法意识，弘扬宪法精神，加强宪法实施，全面推进依法治国，第十二届全国人民代表大会常务委员会第十一次会议决定，将每年12月4日设立为国家宪法日。2022年12月4日，是我国的第九个“国家宪法日”，国家通过多种形式开展宪法宣传教育活动。早在1989年8月，上海市人大常委会就通过了《关于开展以宪法为主要内容的法制宣传教育的决定》，规定每年宪法颁布日的当周（即12月的第一周）为宪法宣传周。上海的每一届宪法宣传周都确定一个主题和多个口号，突出宪法宣传，动员政府、社会、媒体等多方面广泛参与，大力开展普法宣传、“法律五进”等丰富多样的活动。上海的实践经验值得借鉴和推广。

材料三 宪法修改，是国家政治生活中的一件大事，是事关全局的重大立法活动。党的十九届二中全会在准确把握我国宪法发展的特点和规律的基础上，明确提出了宪法修改的总体要求和必须贯彻的原则。第一，坚持党的领导。第二，严格依法按程序进行。第三，充分发扬民主、广泛凝聚共识。第四，坚持对宪法作部分修改、不作大改。

(1)宪法修改彰显我国坚持党的领导、人民当家作主与依法治国的有机统一。结合材料一，运用真理的有关知识加以说明。（12分）

(2)结合材料二，运用文化对人的影响的相关知识，说明设立“国家宪法日”的文化意义。（10分）

(3)材料三中的原则为宪法修改指明了正确方向、提供了根本遵循，充分彰显了以习近平同志为核心的党中央治国理政的政治智慧和历史担当。运用所学知识，任意选择两条原则并指出其哲学依据。（4分）

41.（25分）阅读材料，完成下列要求。

材料一 孟德斯鸠所言，“在民法的慈母般的眼里，每个个人就是整个国家”。但是，民法法典化的本质正是政治运动，始于18世纪晚期的欧洲法典化潮流无不服务于各种政治目的。法国民法典成为法国革命的皇冠，巩固和实现了自由、平等、博爱等革命理念；意大利民法典直接促进了亚平宁半岛的统一；奥地利民法典迅速将奥匈联结整合，这些国家皆通过法制统一促进了民族国家的建立。

——摘编自张亮《世界史中的民法典与新中国民法典的编撰历程》

材料二 2020年，第十三届全国人民代表大会第三次会议审议并通过了《中华人民共和国民法典》，总则编确认了平等原则、自愿原则、公平原则、诚信原则、公序良俗原则等民事法律基本原则。人格权独立成编是民法典编排体例上的重大创新。婚姻家庭编规定配偶、父母、子女和其他共同生活的近亲属为家庭成员，宣示“家庭应当树立优良家风，弘扬家庭美德，重视家庭文明建设”。针对新冠疫情出现的监护人暂时无法履行监护职责的情况，居民委员会、村民委员会或者民政部门应当为被监护人安排必要的临时生活照料措施。“民事主体从事民事活动，应当有利于节约资源，保护生态环境”。

——摘编自陈映虹《解读〈民法典〉的中国特色》

(1)根据材料一并结合所学知识，分析近代欧洲民法法典化潮流形成的原因及其影响。（13分）

(2)根据材料二，指出《中华人民共和国民法典》体现的“中国特色”，并结合所学知识，说明其意义。（12分）

42.（12分）阅读材料，完成下列要求。

材料

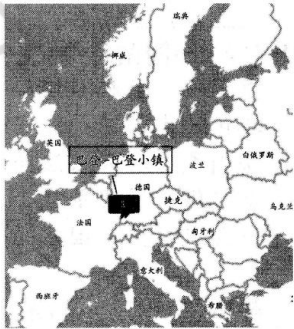
20 世纪中期	1953 年,埃及共和国成立,1956 年,埃及总统纳赛尔宣布收回苏伊士运河主权。
1960 年以来	拉美出现了一系列的经济一体化组织,如中美洲共同市场、加勒比共同体和共同市场、拉丁美洲经济体制等。
20 世纪 60 年代	1960 年,有 17 个非洲国家独立,这一年被称为“非洲年”。到 20 世纪 60 年代末,非洲的独立国家已达 41 个。
1968 年以来	秘鲁、玻利维亚、厄瓜多尔等拉美国家先后实行了石油部门的国有化,几乎所有拉美的矿业生产国也在其他矿业部门实行了国有化。
到 1970 年为止	重工业在整个拉丁美洲制造业的比重已占到 52.3%。
20 世纪 70 年代	印度工业生产平均每年增长 7.4%,农业生产平均每年增长 4.3%,国民收入每年平均增长 3.6%。
1971 年	巴基斯坦内部矛盾激化,印度趁机出兵,孟加拉国独立。
1980 年年底	巴西外债达 540 亿美元,石油进口费用和外债还本付息占全年出口(外汇)收入的 75%。拉美人口中 10% 的富裕阶层的收入占全地区收入的 30%—60%。
20 世纪末	80—90 年代,印度尼西亚、泰国、马来西亚、菲律宾四国被称为“四小虎”。
21 世纪初	2001 年成立非洲联盟。

——摘编自新华网

结合材料信息，围绕“第三世界国家的发展”自拟论题，结合所学知识加以阐述。（要求：论题明确，持论有据，表述清晰）（12 分）

43.（10 分）【地理——选修 3：旅游地理】

后疫情时代，人们关注身心健康的意识越来越强，许多景区抓住机遇，把旅游同养生、医疗、养老等要素进行融合。坐落在德国著名的黑森林西北部的巴登—巴登小镇，有潺潺的奥斯河流过起伏的群山，山谷中的古城堡与现代温泉浴池、别墅同时跃进人们的视野，还拥有现代化水平的医疗机构和养老机构。同时，该镇针对不同年龄群体设置了特色休闲旅游项目。因此，巴登—巴登小镇被誉为“康养天堂”，吸引了来自世界各地的游客。从客源市场角度，分析巴登—巴登小镇发展康养旅游的优势条件。



44.（10 分）【地理——选修 6：环境保护】

《云南省外来入侵物种名录（2019 年版）》（以下简称《名录》）是迄今为止最全面、最准确、最权威地反映云南外来入侵物种的基础性研究成果。《名录》收录了云南境内发现的蕨类植物、种子植物、软体动物、甲壳动物、昆虫、鱼类、两栖类、爬行类、鸟类、哺乳类等类群的外来入侵物种 441 种 4 变种（植物 321 种 4 变种、动物 120 种），云南已成为我国外来物种入侵的“重灾区”。下图为我国各省外来入侵植物种数分布图。

试分析云南成为我国外来物种入侵的“重灾区”的原因及外来物种入侵对云南造成的主要危害。（10 分）

45.（15 分）【历史——选修 1：历史上重大改革回眸】

材料 清末新政期间清政府参考日本等国的地方自治体制，结合自身特点，创造了独特的地方自治法律制度。依照地方自治的有关法律，清政府在城镇中设有议事会和董事会，乡村中设有议事会与乡董作为乡村自治的自治组织。《城镇乡地方自治章程》还规定了乡镇议事会的设置。该法第 23 条规定，“城镇议事会议员以二十名为定额，城镇人口满五万五千后可增加一个名额，自此以上，每增加人口数五千，可多得一名额，最多不能超过六十名”。该法第

24 条还规定了乡议事会议员名额的产生规则。城镇乡的议事会设议长、副议长各一名，依照专门的选举章程的规定由议员无记名投票选举产生。议员及议长、副议长都只享受名誉、不领取工资。议长和议员任期都是两年，每年改选其中一半。城镇议事会是地方议事机关，其职权是决定本地应行变革的事宜、制定自治规约、决定自治经费预算与决算、处理选举争议等。

——摘编自刘志鹏《清末乡村自治立法的百年回顾与启迪》

(1)根据材料并结合所学知识，概括清末乡镇自治改革的主要内容。（8 分）

(2)根据材料并结合所学知识，简要评价清末乡村自治改革。（7 分）

46. （15 分）【历史——选修 4：中外历史人物评说】

材料 梁军(1930-2020)出生于黑龙江省明水县的一个贫苦家庭。1947 年，17 岁的梁军进入由黑龙江省政府在德都创办的萌芽乡村师范学校。1948 年，中共黑龙江省委在北安举办拖拉机手培训班，梁军第一个报名。这年夏天，梁军等人驾驶 3 台拖拉机进了北大荒，当年开荒 2 000 多公顷，收获粮食 15 000 多公斤。1949 年 10 月，梁军加入中国共产党，同年 12 月被选为亚洲妇女代表大会代表，受到党和国家领导人接见。1950 年，上海、内蒙古、吉林等地 10 余名女青年赶来参加机械化垦荒，全国第一支女子拖拉机队“梁军女子拖拉机队”由此成立。同年 9 月，梁军被选为黑龙江省政协委员和全国劳动模范。1951 年 10 月，梁军被选送到北京农业机械专科学校学习，由一名拖拉机手成长为一名农业机械工程师。

——摘编自绍时《巾帼英雄拓荒者，献身农机 40 载——记共和国第一位女拖拉机手梁军》

(1)根据材料，概述梁军在 20 世纪 40 年代末 50 年代初的历史贡献。（6 分）

(2)根据材料并结合所学知识，简要说明梁军成长为“巾帼英雄”的社会条件。（9 分）