

## 成都七中高 2023 届高三下期高考模拟考试

## 文科综合

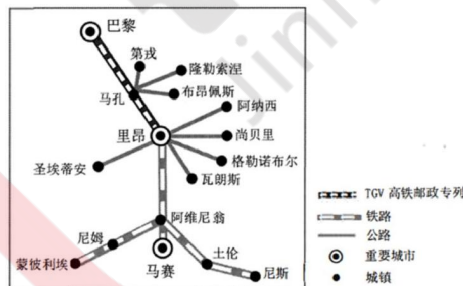
## 第 I 卷（选择题，共 140 分）

## 一、选择题

朗伊尔城（78°13'N，15°33'E）位于挪威属地斯瓦尔巴群岛，季节性冻土（冬季冻结厚度达 2~3 米）广布。1906 年，该地发现了丰富的煤矿，吸引英德俄等国的煤业公司来此采煤。朗伊尔的煤矿开采在夏季处于半停产状态，冬半年反而加大生产。近年来，朗伊尔城多数煤矿基地陆续关闭，仅剩挪威和俄罗斯的煤业公司在此采煤；同时，科学考察研究和旅游活动正在急速增长。据此完成 1~3 题。

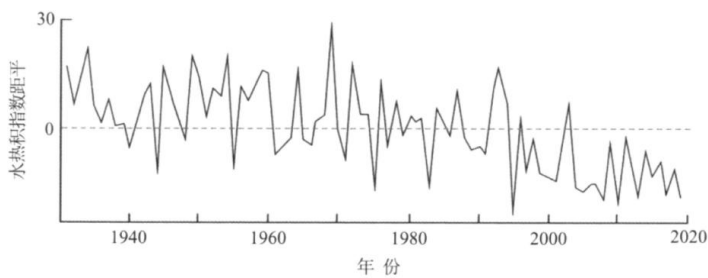
- 朗伊尔夏季煤炭开采处于半停产状态主要是因为（ ）  
A. 融水渗漏，开采难度大 B. 正值极夜，作业时间短  
C. 降水丰沛，排水成本高 D. 风力强劲，污染扩散快
- 推测英德等国煤业公司放弃在朗伊尔城继续采煤主要是由于（ ）  
A. 煤炭开采时间有限 B. 该城煤矿资源枯竭  
C. 煤炭开采利润降低 D. 国内能源需求减少
- 朗伊尔在科考和旅游业上的发展主要得益于其（ ）  
A. 便利的对外交通 B. 独特的自然景观 C. 完善的服务设施 D. 悠久的发展历史

法国是最早开展高铁货运业务的国家。1984 年，巴黎—里昂的 TGV 高铁邮政专列开通，均为夕发朝至，最高运行速度达 270km/h，并与沿线公路系统相结合，实现了邮政包裹“门对门”的快速运输，促进了沿线高铁物流的飞速发展，下图示意 TGV 高铁邮政专列，据此完成 4~5 题。



- TGV 高铁邮政专列与公路运输相结合的主要目的是（ ）  
A. 分散市场风险 B. 减少恶性竞争 C. 带动沿线发展 D. 扩大物流腹地
- TGV 高铁邮政专列均为夕发朝至，这样可以（ ）  
A. 提高运输速度 B. 减少邮件延误 C. 协调高铁客运 D. 减少噪声污染

水热积指数  $k = T \times SD / 100$ ，其中  $T$  表示某时期的平均气温( $^{\circ}\text{C}$ )； $SD$  为某时期降水量与同期潜在蒸散量的差值，表征水分盈亏。 $k > 0$  表示区域水热匹配较好， $k < 0$  表示区域水热匹配较差。下图示意 1931~2019 年中亚地区夏冬两季水热积指数距平。据此完成 6-8 题。



6. 中亚地区水热匹配状况

A. 1993 年最好 B. 1969-1983 年波动向好 C. 1995 年最差 D. 2000-2019 年持续变差

7. 中亚高山高原区冬季水热积指数小于零的主要原因是

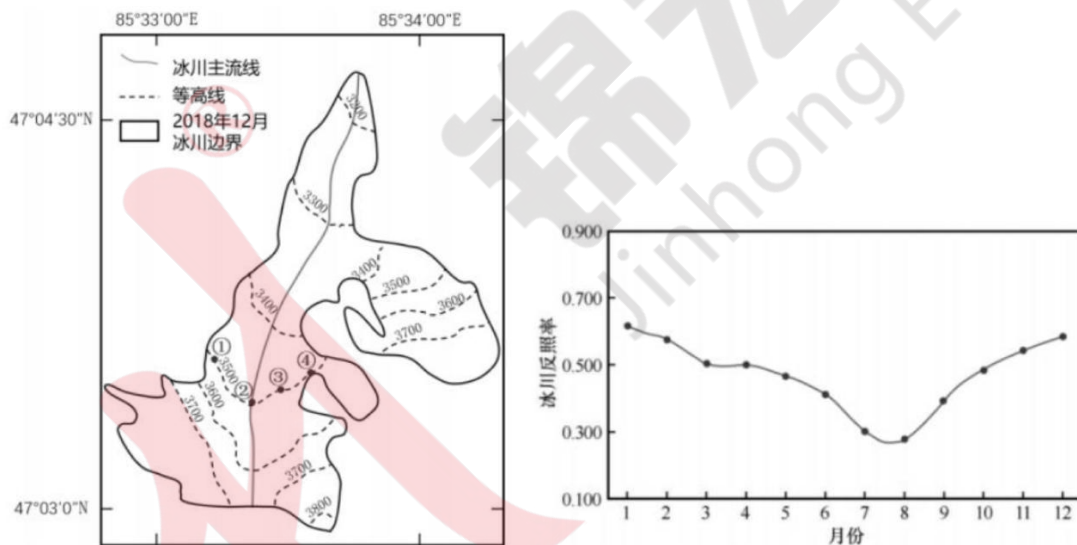
①气温低 ②气温高 ③降水量大于潜在蒸发量 ④降水量小于潜在蒸发量

A. ①③ B. ②④ C. ①④ D. ②③

8. 从农作物生长角度分析，中亚棉花种植区水热匹配最差的季节是

A. 春季 B. 夏季 C. 秋季 D. 冬季

冰川反照率是指冰川表面反射太阳辐射能量与吸收太阳辐射能量的比值。冰川反照率存在显著的时空差异，主要跟积雪、裸冰范围、吸光性杂质含量和太阳入射角等因素有关。木斯岛冰川位于萨吾尔山北坡，不同时期 3600 米以上的冰川反照率都会随海拔升高而降低。左图为木斯岛冰川分布图，右图为 2011-2021 年木斯岛冰川反照率各月平均变化图。据此完成 9-11 题。



9. 木斯岛冰川反照率月平均最低值出现在 8 月，主要原因是

A. 降水量大 B. 植被覆盖率高 C. 冰川消融大 D. 太阳高度角大

10. 同一时期，图中①②③④四个点中冰川反照率最高的应该是 ( )

A. ① B. ② C. ③ D. ④

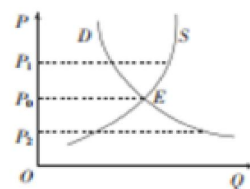
11. 木斯岛冰川反照率在海拔 3600 米以上，总体随海拔升高而降低的主要原因是 ( )

A. 坡越陡，冰雪堆积越难 B. 海拔越高植被越少

C. 海拔越高太阳入射角越小 D. 海拔越高降水越少

12. 下图中 P 为价格，Q 为数量，E 点为市场均衡点。不考虑其他因素，下列选项结合图示信息解读正确的是 ( )

- ①当股票价格处于  $P_0$  点时，相关公司的生产经营面临着较大风险  
 ②国务院设定符合标准的粮食最低收购价适宜在  $P_1$  点，能稳定粮食生产  
 ③当能源价格处于  $P_1$  点时，会刺激中下游企业改善管理以减轻经营压力  
 ④当劳动力价格在  $P_2$  点时，相关企业应提升生产智能化水平缓解价格压力



A. ①② B. ①④ C. ②③ D. ③④

13.2023 年 2 月 2 日银行间外汇市场人民币汇率中间价为：1 美元对人民币 6.7130 元，前一交易日中间价报 6.7492 元，单日大幅升 362 基点。人民币中间价实现连续四个交易日升值，此轮反弹的诱因，除美国近几个月 CPI 低于预期之外，更主要的是来自中国自身。对此分析正确的是（ ）

- ①我国吸引外资金额巨大，促进人民币币值稳定  
 ②国内通货膨胀率较高，人民币汇率有升值空间  
 ③中国经济基本面向好，支撑人民币币值坚挺  
 ④我国国际货物和服务贸易收支双顺差，外汇供过于求

A. ①② B. ①④ C. ②③ D. ③④

14.2023 年 2 月 13 日，中共中央、国务院发布《关于做好 2023 年全面推进乡村振兴重点工作的意见》强调巩固提升农村集体产权制度改革成果。产权制度是市场经济的基石。十八大以来，国家全面推行农村集体产权制度改革试点，有序开展集体成员身份确认、集体资产折股量化、股份合作制改革、集体经济组织登记赋码等工作。通过改革，清查核实农村集体资产 7.7 万亿元，集体土地等资源 65.5 亿亩，确认农村集体经济组织成员身份 9 亿人。农村集体产权制度改革的影响路径是（ ）

- ①盘活农村“沉睡”的生产要素资源 ②确认农民土地所有权和承包经营权  
 ③发展壮大农村集体经济 ④促进乡村振兴和共同富裕 ⑤赋予农民更多的财产权利

A. ②→⑤→③→④ B. ⑤→④→①→③ C. ⑤→①→③→④ D. ③→①→④→⑤

15.知识产权质押融资是企业以合法拥有的专利权、商标权等知识产权作为质押标的物，向银行等金融机构进行贷款，并按期还本付息。银保监会有关负责人介绍，截至 2022 年 6 月末，银行业金融机构知识产权质押贷款余额达 1246.37 亿元。发展知识产权质押融资业务（ ）

- ①打造多层次金融服务体系，增加个人投资选择  
 ②提升银行功能，发挥银行技术创新的主体作用  
 ③推动科技与经济深度融合，更好实现创新发展  
 ④深化金融供给侧改革，提升科技型企业融资能力

A. ①② B. ①③ C. ②④ D. ③④

16.中国共产党第二十届中央委员会第二次全体会议审议通过了《党和国家机构改革方案》，统筹党中央机构、全国人大机构、国务院机构、全国政协机构，统筹中央和地方，深化科学技术、金融监管、数据管理、乡村振兴、知识产权、老龄工作等重点领域机构改革。此次党和国家机构改革旨在（ ）

- ①进一步推动党和国家机构更好地履行国家职能  
 ②优化机构设置和职能配置，实现协同高效运转  
 ③推动国家政权组织形式转变，适应党和国家工作中心转移

④推进国家治理体系和治理能力现代化，服务经济社会发展

A. ①③ B. ①④ C. ②③ D. ②④

17.立法是国家的重要政治活动，关系党和国家事业发展全局。立法法是规范国家立法制度和立法活动、维护社会主义法治统一的基本法律，称为“管法的法”。时隔八年，立法法又一次迎来了修改，十四届全国人大一次会议审议通过了《全国人民代表大会关于修改〈中华人民共和国立法法〉的决定》。立法法的修改（ ）

①坚持科学民主依法立法，不断提升我国立法质量，推动良法之治

②完善立法体制机制，健全以宪法为核心的中国特色社会主义法律体系

③坚持以人民为中心，把全过程人民民主确立为我国治国理政的基本方式

④严格遵循立法程序，为规范国家立法制度和立法活动提供根本政治保证

A. ①② B. ①③ C. ②④ D. ③④

18.党的二十大将习近平新时代中国特色社会主义思想的新发展写入党章。中共中央政治局决定从今年4月开始，在全党自上而下分两批开展学习贯彻习近平新时代中国特色社会主义思想主题教育。由此可见，中国共产党（ ）

①注重将党的全部理论和实践主题系统化理论化

②用习近平新时代中国特色社会主义思想凝心铸魂

③坚持用马克思主义中国化时代化最新成果武装全党

④不断改进执政方式以推进新时代党的建设新的伟大工程

A. ①② B. ①④ C. ②③ D. ③④

19.某省民族宗教委主动对标省委“3815”战略发展目标，结合实际明确提出该省民族宗教工作“3815”发展目标，即三年民族团结进步示范区建设上台阶，八年做民族团结边疆稳定的样板，十五年当铸牢中华民族共同体意识的标杆、成为我国民族团结进步示范区，下列选项中有助于实现“3815”战略发展目标的有：

①深入开展兴边富民行动，以中国式现代化引领民族地区高质量发展

②坚持文化浸润，消除民族文化差异，夯实民族团结进步的文化基础

③坚持政治引领，确保少数民族地方依法行使民族自治地方的自治权

④建立规范有序的民族工作体系，实现民族事务治理能力的有效提升

A. ①③ B. ①④ C. ②③ D. ②④

20.《“十四五”文化发展规划》强调要“构建网上网下一体、内宣外宣联动的主流舆论格局”，建设全媒体传播体系。党的二十大报告也明确指出，“加强全媒体传播体系建设，塑造主流舆论新格局。”“健全网络综合治理体系，推动形成良好网络生态。”塑造主流舆论新格局要求：

A.党要掌握主动权，限制各类网络舆论和社会思潮生成、交互

B.主流媒体要传播主旋律、放大正能量，守护好意识形态的主阵地

C.主流媒体应积极推进体制机制改革，牢牢掌握意识形态工作领导权

D.主流媒体要不断完善互联网平台治理、健全网络空间综合治理体系



21.党的二十大报告指出，中国式现代化的本质要求是：坚持中国共产党领导，坚持中国特色社会主义，实现高质量发展，发展全过程人民民主，丰富人民精神世界，实现全体人民共同富裕，促进人与自然和谐共生，推动构建人类命运共同体，创造人类文明新形态。由此可见，中国式现代化是（ ）

- ①肯定与否定的统一，是对人类文明形态的扬弃
- ②共性与个性的统一，体现了中国特色的绝对性
- ③主观与客观的统一，做到解放思想、实事求是
- ④量变与质变的统一，是渐进性和飞跃性的互变

A. ①③ B. ①④ C. ②③ D. ②④

22.“逆向考研”是指学生从较高级别高校考研到较低级别高校深造的一种现象。在世俗观念里，“向下”考研被视为没出息甚至失败行为，但有的人认为冲着较低级别高校的特色专业去无可厚非，还有人认为这是尊重个性发展的明智之选……人们对“逆向考研”看法不一的原因可能是（ ）

- ①人们对客观事物的认识受限于具体实践水平
- ②没有经过亲身实践检验的认识都是不科学的
- ③立场观点的不同影响人们对事物的认识结果
- ④不同人对同一个确定的对象会产生不同认识

A.①③ B.①④ C.②③ D.②④

23.2022 年，经过中国科研团队的不懈努力，成功研发出直接电解海水制氢技术，不仅破解“绿色制氢”世纪难题，还为我国进一步探索清洁能源的使用提供了新技术新思路。据此，下列说法正确的是（ ）

- ①海水制氢技术发展离不开科研人员正确发挥主观能动性
- ②从对规律的正确认识出发可以破解制氢技术方面的难题
- ③先进技术的出现能帮助人们提高对清洁能源的认识水平
- ④理论基础上的实践创新是探索新技术新思路的重要途径

A.①② B.①③ C.②④ D.③④

24. 据《春秋大事表》载：鲁国聘（遣使访问）齐国十六次、晋国二十四次，齐聘鲁仅五次，晋聘鲁十一次，晋于鲁多是“召公”、“征师”，鲁于晋却多为“拜谢”、“吊贺”。这表明，影响当时诸侯国关系的重要因素是（ ）



A. 实力强弱 B. 地缘关系 C. 礼乐规范 D. 血缘亲疏

25. 东汉和帝时废除察举制的旧规——州郡举荐一律为两人，改为“不满二十万口二岁举孝廉一人，二十万口岁举孝廉一人，四十万二人”等；顺帝时由三公府对郡国孝廉者进行分科考试。据此可知，东汉时期（ ）

- A. 选官方式相对客观 B. 阶层流动相对活跃  
C. 察举不实现象突出 D. 意图维护制度公平

26. 北宋殿中侍御史赵孚向朝廷上书：“庄宅多有争诉，皆由衷私妄写文契，说界至则无丈尺，昧邻里则不使闻知，欺罔肆行，狱讼增益。请下两京及诸道州府商税院，集庄宅行人，众定割移，典卖文契各一本，立为榜样。”宋太宗对此深以为然，在全国推行。这反映了北宋时期

- A. 重农抑商政策有所松动 B. 政府注重规范经济行为  
C. 强化政府对经济的控制 D. 政府严格管理文书档案

27. 如表为清初成都城市景观修建情况表，如表反映清初成都城市景观修建（ ）

修建时间	修建景观	修建人
顺治十八年 (1661 年)	成才文庙	四川巡抚佟凤彩
康熙七年 (1668 年)	捐修青羊宫三清殿	四川巡抚张德地
康熙七年 (1668 年)	修建了武侯祠的三 绝碑亭、惠陵版坊	四川巡抚张德地
康熙十年 (1671 年)	杜甫草堂	巡抚罗森、布政使司金拱、按察使司宋 可发、成都县令戴宏烈等，还有二寺僧
康熙四十三年 (1704 年)	锦江书院	按察使刘德芳
康熙三十四年 (1695 年)	重建二仙庵	按察使赵良璧

- A. 广泛调动了社会参与 B. 奠定了后世城市形态  
C. 蕴含了政治社会意图 D. 推动了城市经济发展

28. 晚清时期，地方督抚不设属官。曾国藩、李鸿章等出于地方军务需要，自设善后、厘金等局，招募官员、幕友入局办事形成幕府，幕府逐渐掌握了部分军事权、财政权和人事权，实际上行使省一级政权的职能。这一现象（ ）

- A. 遏制了列强侵略的势头 B. 反映了晚清政治的现代化  
C. 推动了科举制度的变革 D. 体现了政治权力结构变动

29. 20 世纪 20 年代初，不少赴法勤工俭学的中国学子信奉无政府主义。随着勤工俭学过程中与工人的广泛接触，这些学子在归国后积极参与反帝爱国运动，其中大多数接受了马克思主义。由此可知，赴法勤工俭学运动（ ）

- A. 为中国共产党的壮大提供了条件 B. 深受欧洲无政府主义思潮的影响  
C. 具有突出的自发性和盲目性特征 D. 继承了新文化运动的初心和使命

30. 下图为冀鲁豫边区的年画《战斗英雄·劳动英雄》（1945 年），图右侧人物着战士戎装，左臂挎长枪，右手高擎大刀，英姿飒爽；左侧人物农民打扮，右手持镰刀，左手高举一束红高粱，意气风发。该年画体现出（ ）



- A. 农民获得土地后的劳动热情 B. 抗日民族统一战线基础扩大  
C. 军民精诚合作抗日共御外辱 D. 敌后战场成为抗战中流砥柱

31. 1981 年全国人大常委会决定暂停民法典的起草，转向先分别制定单行法，1998 年八届全国人大决定恢复民法典的起草工作，2002 年九届全国人大决定加快民法典的起草工作，2020 年 5 月，十三届全国人大三次会议表决通过了《中华人民共和国民法典》。这一过程主要反映了（ ）

- A. 法律制度建设达到极致 B. 依法治国方略深入人心  
C. 制定了最完备的民法典 D. 经济发展助推法治建设

32. 美国史学家罗斯比在《哥伦布交流》序言中说，“历史学者在探寻新旧世界重新接触的真正意义之时，受到传统的局限。生态学者或地理学者在粗略浏览了 16 世纪的原始资料之后会发现：哥伦布航行所带来的最重要的变化，在本质上是生物意义上的。但连经济史学者也会偶尔遗漏这一点”。这表明作者（ ）

- A. 否定哥伦布发现新大陆 B. 从生态视角解释欧洲向美洲的殖民  
C. 为欧洲殖民者进行辩护 D. 以欧洲为中心来评价哥伦布的航行

33. 下表反映了英国议会两院关系的演变。表中这些法案的出台表明（ ）

1911 年《议会法》确定了平民院的财政立法权
1932 年取消了贵族院对平民院议案的提名权；重新规定了选民财产资格的限制
1949 年《议会法》规定财政议案只能由平民院提出，贵族院不得对它进行修改和否定

- A. 平民院控制了立法权和行政权 B. 贵族院的人员构成发生了变化  
C. 权力转移以和平渐进方式进行 D. 英国贵族的政治特权丧失殆尽

34. 19 世纪末 20 世纪初，洛克菲勒组建的标准石油公司成为美国最大的原油生产公司，该公司垄断了美国 95% 以上的炼油能力、90% 的输油能力、25% 的原油产量。1911 年，美国最高法院依据《谢尔曼反垄断法》作出判决，标准石油公司被拆分为 37 家地区性石油公司。这表明美国（ ）

- A. 深受自由市场经济模式影响 B. 垄断组织不利于生产力发展  
C. 已开始践行凯恩斯主义理论 D. 政治体制中制约与平衡原则



35. 列宁指出：早期工人运动，“这是工人运动最初的、开始的形式，而这种形式也是必要的，因为对资本家的憎恨心情在任何时候和任何地方都是促使工人产生自卫要求的第一个推动力。”由此可知，列宁认为早期工人运动（ ）

- A. 蕴含了爱国主义的特质 B. 带有自发性的特征  
C. 受到空想社会主义影响 D. 其失败具有必然性

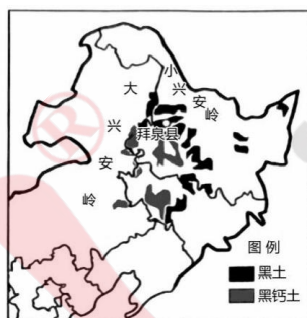
## 第 II 卷（非选择题，共 160 分）

二、非选择题：共 160 分。第 36~42 题为必考题，每个试题考生都必须作答。第 43~47 题为选考题，考生根据要求作答。

（一）必考题：共 135 分

36. 阅读图文材料，回答下列问题。（22 分）

拜泉县位于黑土分布区（左图），曾经是土壤侵蚀强烈的地区。季节性冻融是原因之一，不合理的耕作方式也是导致黑土退化的原因。为解决黑土变“薄”变“瘦”的问题，当地农民采用了多种保护性耕作技术。秸秆覆盖条带耕作技术（简称条耕技术，如右图所示），是在秸秆全覆盖的基础上，利用条耕机械整理出无秸秆的苗带用于播种，全田土壤扰动不超过  $1/3$ 。21 世纪以来，我国粮食净进口量持续增加，其中进口大豆约占进口粮食总量的 60%，占大豆消费总量的 80% 以上。拜泉县是大豆种植保护性耕作技术的示范基地，创造了保黑土与增产量的双赢。



（1）推测拜泉县土壤冻融侵蚀最严重的季节，并说明其侵蚀原理。（8 分）

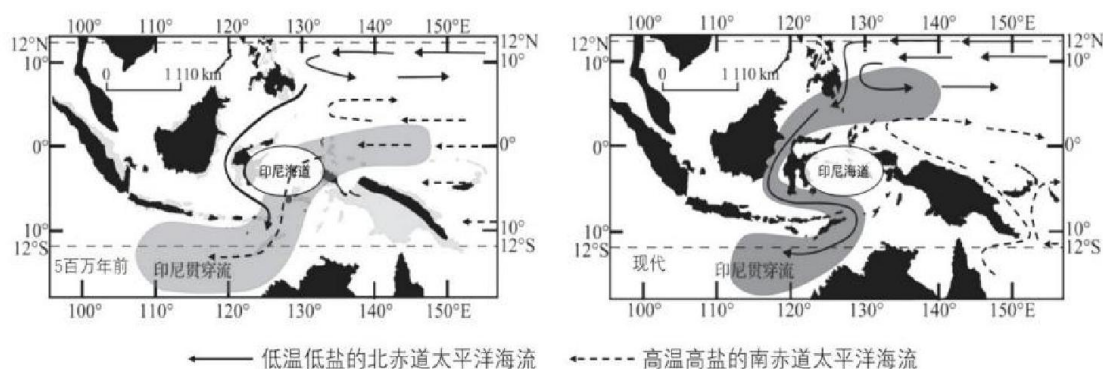
（2）阐述条耕技术对保护黑土的作用。（10 分）

（3）简述拜泉县的做法对我国粮食安全的意义。（4 分）

37. 阅读图文材料，完成下列问题。（24 分）

多年平均海表温度在  $28^{\circ}\text{C}$  以上的暖海区域被称为暖池。受大气环流和洋流影响，西太平洋赤道附近形成了全球面积最大、水位最高的区域，被称为西太平洋暖池。印尼海道的开合控制着西太平洋与东印度洋暖池之间水体和热量的输送。晚中新世以来，强烈板块构造运动使印尼海道逐渐关闭，从而改变了西太平洋和东印度洋之间的洋流体系，使连接西太平洋暖池和东印度洋暖池的印尼贯穿流水体由高温高盐的南赤道太平洋水团转变为低温低盐的北赤道太平洋水团。印尼海道和印尼贯穿流的演化也影响着澳大利亚西北部的气候。下图为印尼海道位置及印尼贯穿流演化路径示意图。

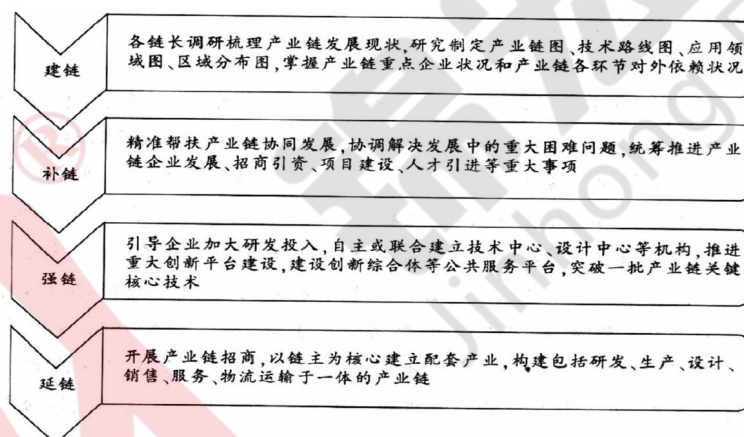




- (1) 从大气环流和洋流的角度说明西太平洋暖池的形成过程。(6分)
- (2) 从板块运动方向的角度，分析印尼海道关闭的过程。(6分)
- (3) 指出印尼海道逐渐关闭对西太平洋暖池的影响并说明理由。(6分)
- (4) 分析印尼贯穿流的演化对澳大利亚西北部气候的影响。(6分)

38. 阅读材料，完成下列要求。(14分)

“链长制”是一种强化产业链责任的制度创新，由链主和链长两部分组成：链主是由产业链上的龙头企业担当，链长则主要由地方政府相关负责人担任，统一协调内外部资源。下图是某地的“链长制”构成：A省由于存在工业基础与技术积淀有限，部分领域核心基础零部件、关键技术和设备、关键基础材料严重依赖进口，以及共性技术性创新体系缺失等问题，让A省产业链供应链始终面临局部受阻或断裂的风险。



结合材料，运用经济生活知识，说明“链长制”在推动经济高质量发展中的作用，并说明进一步巩固和稳定产业链供应链可采取的措施。(14分)

39. 阅读材料，完成下列要求。(12分)

全国政协长江生态环境保护民主监督工作座谈会 2022 年 4 月 1 日在京召开。会议指出，开展长江生态环境保护民主监督，是中共中央交付给各民主党派中央、无党派人士的重要政治任务。近年来，各民主党派中央、无党派人士思想高度重视，统筹资源力量，通过有关地方组织开展定点调研、特邀专家学者开展随机调研、运用视频网络开展远程调研，注重面上分析与点上剖析相结合、公开察看与暗中查访相结合、实时监测与适时回访相结合，掌握了大量一手材料和真实情况及时向中共中央、对口省市和有关部门反映监督建议，为科学决策、有效施策提供了参考，长江生态环境保护民主监督工作开局良好。会议强调，应发挥好人民政协独特优势，助力长江流域天更蓝、水更清、景更美。

结合材料并运用全过程人民民主的知识，谈谈人民政协应如何助力长江流域天更蓝、水更清、景更美。

## 40. 阅读材料，完成下列要求。（26 分）

力量源于团结，奋斗创造奇迹。团结奋斗是中国共产党和中国人民最显著的精神标识。

党的二十大报告指出，团结奋斗是中国人民创造历史伟业的必由之路。百年奋斗历史告诉我们，围绕明确奋斗目标形成的团结才是最牢固的团结，依靠紧密团结进行的奋斗才是最有力的奋斗。过去一百年，党带领中国人民站起来、富起来、强起来，交出满意的答卷。现在，党团结带领全国各族人民踏上了实现第二个百年奋斗目标新的赶考之路，只有紧紧依靠人民，始终团结奋斗，我们才能在新征程上铸就新的时代辉煌。

新时代是奋斗者的时代，新征程是充满光荣和梦想的远征。与时间赛跑，为生命护航，医护人员全力守护人民群众健康；成千上万次试验，零隐患出厂调试，青年工匠为中国高铁不断抵达新远方保驾护航……新时代十年伟大变革，处处活跃着奋斗者的英姿，处处闪动着昂扬奋进的精神。在二十大结束后，习近平总书记到安阳考察时说道：“红旗渠就是纪念碑，记载了林县人不认命、不服输、敢于战天斗地的英雄气概。要用红旗渠精神教育人民特别是广大青少年，社会主义是拼出来、干出来、拿命换来的。今天，物质生活大为改善，但愚公移山、艰苦奋斗的精神不能变。”习近平总书记的讲话为新时代弘扬党的优良传统提供了根本遵循，必须把奋斗作为根本要求。

（1）结合材料运用社会历史主体的知识，说明党只有紧紧依靠人民团结奋斗才能铸就新的时代辉煌。（12 分）

（2）结合材料运用文化生活知识，说明新时代弘扬奋斗精神对培养社会主义建设者与接班人的作用。（10 分）

（3）广大青年既是追梦人，也是圆梦人，请你以“奋斗正青春筑梦新征程”为主题，向伟大的祖国写一份决心书。（4 分）

## 41. 阅读材料，完成下列要求。（25 分）

**材料一** 1751~1772 年，由狄德罗主编，数学家达罗贝尔、伏尔泰和卢梭等人参与编写的《百科全书或科学、工艺的理性辞典》（以下简称“法国《百科全书》”）陆续出版。法国《百科全书》包括 17 米文字，11 米图版，71818 个条目，2885 幅插图，其中自然科学占比超过人文科学。法国国王路易十五也想参与该书的编纂，被狄德罗拒绝。该书在出版过程中两次被政府查禁，又两次解禁。1789 年法国大革命以前，法国《百科全书》共出版了 6 个版本，印刷了大约 2.4 万套，在法国国内卖了 11507 套，在欧洲其他国家卖了 12054 套，美国的富兰克林、“宪法之父”麦迪逊等人都购买了此书。

**材料二** 乾隆五十二年（1787 年），由乾隆皇帝亲自审校的《四库全书》最终编纂而成，它是我国古代规模最大的丛书。分为经、史、子、集四部，共收录 3470 部书，其中科技著作内容不超过全书的 5%。在征集图书的过程中，乾隆帝下令销毁了大量书籍，据学者统计，累计毁掉图书 2929 部。例如《天工开物》只因在序言中指出清朝龙兴之地东北在 3000 年前曾是蛮荒之地，就被禁毁了。《四库全书》编成后，乾隆决定人工抄写七部，分藏在 6 个城市，长期束之高阁直到 1986 年台湾商务印书馆将其影印 1000 套，21 世纪初内地出版社前后影印了 2000 套，这些书发货后即很快售罄。

——以上材料均摘编自刘澍《〈四库全书〉与〈百科全书〉之比较》

（1）根据材料一、二，分别概括法国《百科全书》与中国《四库全书》的特点。（12 分）

(2) 根据材料一并结合所学知识，分析法国《百科全书》呈现这些特点的原因。(8 分)

(3) 根据材料并结合所学知识，简析大型文化典籍的编纂对文化发展的意义。(5 分)

42. 阅读材料，完成下列要求。(12 分)

**材料** 习近平总书记在党的二十大报告中指出，“中国共产党已走过百年奋斗历程，用伟大奋斗创造了百年伟业”。准确把握中国共产党百年奋斗历史定位和时代坐标，就要以唯物史观为指导，运用大历史观（在一个比较长的历史时段来认识和分析问题），从中国近代 180 多年斗争史中予以科学定位，把握历史大趋势，感悟中国共产党百年奋斗历史伟业、明晰百年奋斗重要意义、传承百年奋斗历史经验，树立正确党史观。

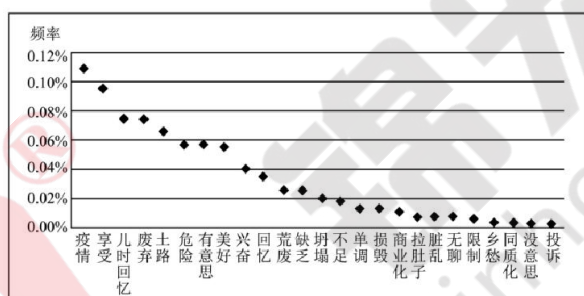
——摘编自王树荫、王君《以大历史观审视中国共产党百年奋斗历史定位》

结合所学知识，围绕“中国共产党百年奋斗史”，自拟论题并阐述。（要求：论题明确，论据准确，论证充分，逻辑清晰）

(二) 选考题：共 25 分

43.[地理——选修 3：旅游地理](10 分)

2022 年 6 月某研究团队以北京市 28 个传统村落为对象，通过获取相关互联网文旅大数据，运用旅游消费者行为理论，全面揭示北京传统村落游客的行为画像。基于游客反馈的互联网大数据能够较为合理地揭示传统村落旅游的内在特征和问题。下图为该团队利用大数据绘制的消费者反馈词频统计图。

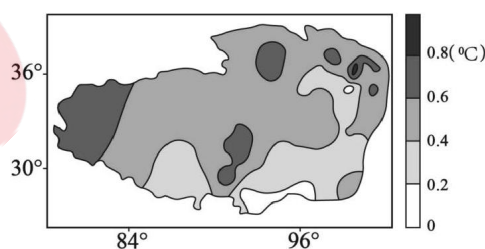


北京传统村落正负面反馈词频占比统计图

请结合材料信息对北京传统村落旅游发展状况进行综合评价。

44.[地理——选修 6：环境保护](10 分)

植被覆盖度与气温升高幅度呈负相关，植被覆盖度低，气温升高幅度大。调查发现全球气候变暖使青藏高原土地沙漠化发生逆转。青藏高原土壤对气候变化响应显著。下图示意青藏高原 1971—2013 年冬季的气候倾向率（气温变化幅度）变化。



从自然地理环境整体性的角度说明全球气候变暖对青藏高原土地沙化逆转的影响。

45. [历史选修 1：历史上重大改革回眸](15 分)



材料 清末众多金融机构滥发纸币，严重扰乱金融市场。1906 年初，户部银行成立不久，户部强调各地不能妨碍中央银行特权。清政府试图取缔官商行号所发钞票，然而发行机关大多阳奉阴违。1910 年 5 月，度支部奏定《兑换纸币则例》，对大清银行纸币的种类、发行准备、发行数额、发行管理及发行税等做了具体规定。1911 年，新的大清银行纸币开始印制。除纸币之外，清廷还统一银元的生产发行。清政府多次颁令裁并地方造币厂局，并于 1905 年在天津建立了全国统一的银钱总厂，作为户部的造币总厂。1909 年，度支部奏设币制调查局，并派大清银行监督为币制顾问。1910 年，清政府公布《币制则例》，规定各省大小银元、铜元一律停铸，新的国币银元专归造币总厂铸造。辛亥革命爆发后，币制改革基本停止。

——摘编自石涛《大清银行的货币发行与清末币制改革》

(1) 根据材料并结合所学知识，概括清末币制改革的特点。(6 分)

(2) 根据材料并结合所学知识，简要评价清末币制改革。(9 分)

46. [历史选修 3：20 世纪的战争与和平] (15 分)

材料 1952 年，为了对抗苏联，美国把两大世仇国家希腊和土耳其拉进北约。希土两国加入北约后，很快就在塞浦路斯问题上针锋相对。塞浦路斯希族人希望国家独立后同希腊合并，而土族人则反对其并入希腊。1960 年，塞浦路斯共和国成立，希军和土军均驻扎在这个新国家，保护各自的族群。1963~1964 年，塞浦路斯的希土两族爆发武装冲突，土总理宣布废除 1930 年《希土友好条约》。1974 年 7 月 20 日凌晨，土军以保护土族人为借口，入侵塞浦路斯。同年 7 月 21 日晚间，希腊军政府做出决定，派遣军队支援塞军，北约内战自此打响。8 月，土军占领塞北部大片地区，战略目的已经达到，于是，土耳其接受了联合国的停火要求。至此，塞浦路斯陷入南北分裂对峙状态。希土两国在塞浦路斯的战争使北约内部气氛高度紧张，有人甚至担心北约会因此解体。1974 年 8 月中自北约未能通过制裁土耳其的决议，希腊政府宣布希腊撤出北约军事组织。美土关系因此受到严重影响。

——摘编自葛元芬《北约内战》

(1) 根据材料并结合所学知识，简析 20 世纪 70 年代“北约内战”发生的原因。(8 分)

(2) 根据材料并结合所学知识，概括 20 世纪 70 年代“北约内战”的影响。(7 分)

47. [历史选修 4：中外历史人物评说] (15 分)

材料 1941 年 1 月 11 日，周恩来得知皖南新四军在北移途中遭受国民党军队袭击。17 日，国民政府军委会发布撤销新四军番号的通令，周恩来向国民党谈判代表张冲提出抗议，并打电话给国民政府军委会参谋长何应钦，怒斥“你们做了日寇想做而做不到的事”，还连夜为《新华日报》写了“为江南死国者致哀”和“千古奇冤，江南一叶；同室操戈，相煎何急”的题词。此外，周恩来还巧妙地拜会美、英、苏大使和特使，说明皖南事变的真相，设法通过斯诺、斯特朗等人将皖南事变的真相通过美国媒体告知世界。在各民主党派和人民团体、海外华人和社团的抗议声中，在国际压力之下，蒋介石不得不于 1941 年 3 月 6 日在国民参政会上表示：“今后将绝无剿共的军事行为发生。”随后，蒋介石两次约见周恩来，表示希望缓和两党关系。

——摘编自李传玺《周恩来与皖南事变真相对外披露》

(1) 根据材料并结合所学知识，概括周恩来针对皖南事变斗争策略。(7 分)

(2) 根据材料并结合所学知识，简析周恩来针对皖南事变斗争策略的意义。(8 分)