

成都石室中学高 2024 届高考适应性考试（一）

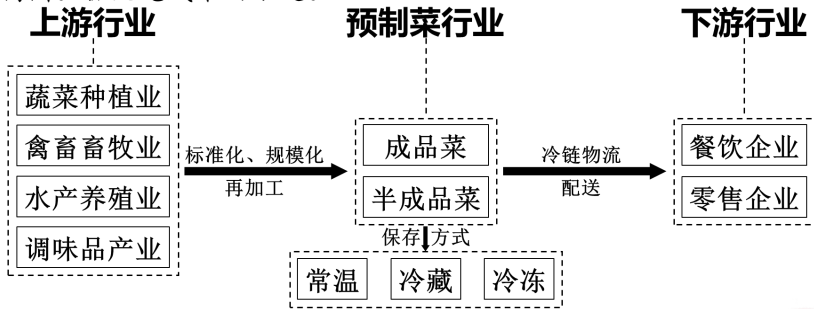
文科综合能力测试

注意事项：

- 1. 答卷前，考生务必将自己的姓名、准考证号填写在答题卡上。
- 2. 回答选择题时，选出每小题答案后，用铅笔把答题卡对应题目的答案标号涂黑。如需改动，用橡皮擦干净后，再选涂其他答案标号。回答非选择题时，将答案写在答题卡上，写在本试卷上无效。
- 3. 考试结束后，将本试卷和答题卡一并交回。

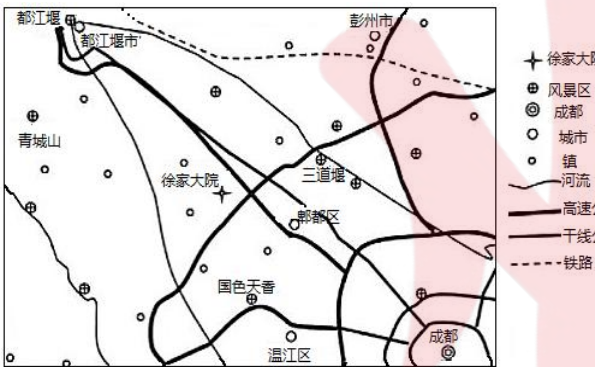
一、选择题：本题共 35 小题，每小题 4 分，共 140 分。在每小题列出的四个选项中，只有一项是符合题目要求的。

预制菜是以农产品为原料，经工业化预加工制成，再采用冷藏或保鲜技术保存的成品或半成品。消费者拆掉包装，简单加热、熟制后即可食用，具有即食、即热、即烹、即配等特点。追溯历史，预制菜起源于上世纪 60 年代的美国，80 年代在日本逐渐发展成熟。近年来，我国预制菜产业步入快速成长期。截至 2022 年，深圳成为我国预制菜企业最多的城市。下图示意预制菜及上下游行业结构图。据此完成下面小题。



- 1. 对餐饮企业来说，使用预制菜能够节省（ ）  
A. 包装成本 B. 人工成本  
C. 物流成本 D. 燃料成本
- 2. 深圳预制菜产业发展迅速，主要是因为（ ）  
A. 年轻人多，生活节奏快 B. 经济发达，收入水平高  
C. 科技发达，包装水平高 D. 距离海洋近，食材丰富
- 3. 从食品安全角度考虑，下列说法中符合预制菜未来发展方向的是（ ）  
① 选用高品质食材 ② 依托电商平台拓展客源 ③ 加大宣传力度  
④ 定期对预制菜质量进行检测 ⑤ 控制调料和添加剂用量  
A. ①②③ B. ②③④ C. ①④⑤ D. ③④⑤

农家乐作为乡村振兴战略和乡村产业转型升级的关键内容，极大地推动了 城乡协调发展。坐落于成都平原上汉代文学大儒杨雄故里的徐家大院，2004 年 7 月被全国农业旅游示范点评审委员会正式命名“中国农家乐第一家”，2006 年 7 月被中国国家旅游局授予中国农家乐发源地。从开办至今，“中国农家乐第一家”不断升级，以满足游客对旅游品质的追求。据此完成下面小题。



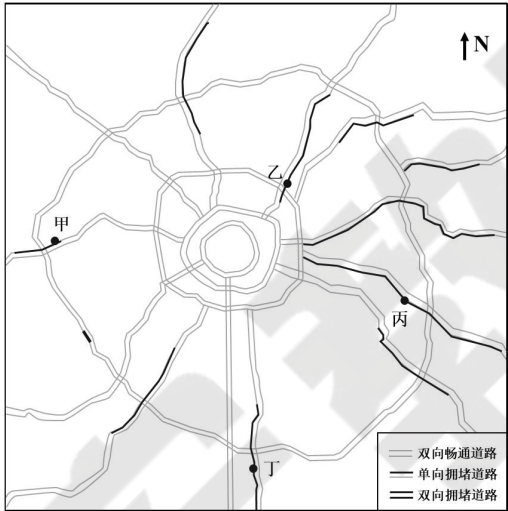
- 4. 徐家大院地处（ ）  
A. 商贸中心区 B. 河流下游地  
C. 山前迎风坡 D. 城乡结合部

命题：成都石室中学文科综合备课组


- 5. 徐家大院成为“中国农家乐第一家”，主要得益于（ ）  
A. 平原地形 B. 国家政策  
C. 交通发展 D. 资源禀赋
- 6. 推测“中国农家乐第一家”品牌不断升级发展的方向主要是（ ）  
A. 扩大自身的经营规模 B. 与风景区合作共赢  
C. 丰富特色文化内涵 D. 提供价廉物美的食品

2023 年国庆期间某日上午，家住成都的小明同学通过手机导航软件查询出行交通信息如下图所示（我国驾驶汽车遵循靠右行驶规则）。根据图文材料，完成第 7~9 题。

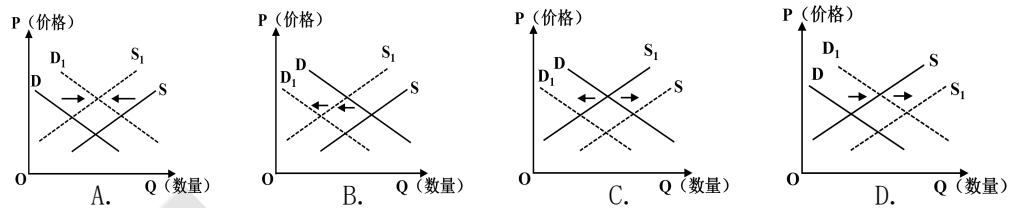
- 7. 在手机上查到图示交通信息的日期最有可能是（ ）  
A. 10 月 1 日 B. 10 月 3 日  
C. 10 月 5 日 D. 10 月 7 日
- 8. 小明乘坐汽车时发现太阳光照从右前方照射过来。此时，车辆行驶的位置最有可能为（ ）  
A. 甲 B. 乙  
C. 丙 D. 丁
- 9. 推测造成该时城市主要道路东、西部拥堵差异的主要原因是（ ）  
A. 道路东密西疏 B. 地形条件差异  
C. 天气东雨西晴 D. 出行意愿不同



拉克依斯马拉赫塞斯国家公园在巴西北部的马拉尼昂州境内（右下图五角星处）。靠近赤道，1 到 5 月为雨季，年降雨量达到 1400~1600 毫米。公园海岸线长，地形平坦，地势较低。公园内主要是一大片沿海沙漠，热季地表最高温度可达 80℃。在最佳观景季节，沙漠里出现众多水晶般大大小小的湖泊，充满着新月沙丘的沟谷（见左下图）。游客们可以在充满阳光的沙漠湖群中徜徉、在湖畔的白色“沙床”上嬉戏，这里也因此得名“千湖沙漠”。 回答 10~11 题。



- 10. 推测此地的最佳观景季节时间主要为（ ）  
A. 1 月-5 月 B. 6 月-9 月  
C. 10 月-次年 2 月 D. 9 月-12 月
- 11. 这些沙漠中的湖泊（ ）  
A. 是咸水湖 B. 是淡水湖  
C. 面积稳定 D. 盐度不稳定
- 12. 2024 年 3 月 13 日，国务院印发《推动大规模设备更新和消费品以旧换新行动方案》。国家发改委将会同有关方面，加大财政、金融、税收等政策支持力度，强化用地、用能等要素保障和科技创新支撑。若不考虑其他因素，下列能正确反映中国先进设备和高质量耐用消费品市场变化的图示（S、D 分别表示变化前的供给曲线和需求曲线，S<sub>1</sub>、D<sub>1</sub>分别表示变化后的供给曲线和需求曲线）是（ ）



- 13. “大农业观”是党在领导新时代“三农”工作中形成的重大理论创新成果。大农业通过开发大资源，向植物、动物、微生物要质量和蛋白质，满足人们对大食物的需求。可见，践行大农业观（ ）

- ① 能够培育新型农业经营主体，引领农业实现适度规模经营
- ② 需要深化农业供给侧结构性改革，构建多元食物供给体系
- ③ 有利于完善集体经济运行机制，让农民共享改革发展成果
- ④ 可以优化居民膳食结构，满足人民群众对美好生活的需要
- A. ①③ B. ①④ C. ②③ D. ②④
- 14. 2024 年 2 月 23 日，习近平总书记主持召开中央财经委员会第四次会议，研究大规模设备更新和消费品以旧换新问题，研究有效降低全社会物流成本问题。这一实实在在的重大部署，锚定有效需求不足这一突出问题，在关键处发力，进一步释放中国经济的潜力和活力。下列举措符合在关键处发力的是（ ）  
① 完善收入分配政策，增加中低收入者收入  
② 增加国债发行规模，加强逆周期调节  
③ 政府扩大投资规模，增加社会总供给  
④ 提高银行存款准备金率，增加货币供应量
- A. ①② B. ①③ C. ②④ D. ③④

- 15. 近年来，我国新修订的专利法、商标法、著作权法顺利实施，大数据、人工智能、基因技术等新领域新业态的专利审查政策标准持续完善，知识产权制度体系不断健全，知识产权转化运用持续加强，知识产权大国地位牢固确立。上述举措推动经济高质量发展的路径是（ ）

- ① 健全知识产权制度体系 → 激发市场主体创新活力 → 培育发展新动能 → 提升发展质量
- ② 加强专利权保护 → 国家加大科研投入 → 实施创新发展战略 → 建立创新引领的产业体系
- ③ 实施新修订的商标法 → 打击商标侵权行为 → 推动市场公平竞争 → 建立竞争有序的市场
- ④ 完善新领域专利审查 → 提高政府市场监管能力 → 促进科研成果转化 → 厚植发展新优势
- A. ①③ B. ①④ C. ②③ D. ②④

- 16. 2024 年 3 月 20 日，第三届“民主：全人类共同价值”国际论坛在北京举办。来自多个国家和地区的 200 余名嘉宾围绕“民主与治理现代化”等议题共商民主真谛、互鉴之道。以下是与会代表的部分发言：

甲：没有放之四海而皆准的民主模式，民主不应该被输出或者强加给其他国家和地区。  
乙：中国拥有更善于倾听人民声音的制度和政府，中国式民主是一种有效的、科学的民主。  
丙：我始终坚信，只有各国加强对话与沟通，才能增进全人类共同福祉。  
丁：改革开放以来，中国特色社会主义民主政治一直在不断完善和发展，这是不争的事实。

- 据此，下列理解正确的是（ ）  
① 人类政治文明发展的进程通过各国民主形式的多样性表现出来
- ② 中国式民主适应中国国情、符合人民需要、有利于社会发展进步
- ③ 各国应以谈判和对话作为解决冲突的手段，推动国际关系民主化
- ④ 改革开放以来，我国的社会主义民主发展进入了更加高级的阶段
- A. ①③ B. ①④ C. ②③ D. ②④



17. 2023 年 10 月 27 日，习近平主席在中共中央政治局就铸牢中华民族共同体意识进行第九次集体学习时强调，铸牢中华民族共同体意识，就是要引导各族人民牢固树立休戚与共、荣辱与共、生死与共、命运与共的共同体理念。新时期铸牢中华民族共同体意识，需要（ ）

- ① 汇聚各族人民群众的磅礴力量，共同铸就伟大的中华民族
  - ② 建立新型民族关系，切实把民族自治制度的优势落在实处
  - ③ 着眼建设中华民族现代文明，不断构筑中华民族共有精神家园
  - ④ 贯彻民族平等团结和共同繁荣方针，促进各民族交往交流交融
- A. ①②                      B. ①③                      C. ②④                      D. ③④

18. 近年来，中俄新时代全面战略协作伙伴关系保持高水平运行。双方政治互信持续深化，互利合作优势互补，民间交往热情高涨。2023 年，双方贸易额达到创纪录的 2400 亿美元，提前完成 2000 亿美元的目标。俄罗斯天然气进入中国千家万户，中国汽车行驶在俄罗斯大街小巷，充分展现了两国互利合作的强大韧性和广阔前景。维护好、发展好中俄关系（ ）

- ① 对维护全球战略稳定、促进大国良性互动、推动新兴大国合作都具有重要价值
- ② 旨在建立一种以结盟关系为基础的，完全不同于冷战旧时代的大国关系新范式
- ③ 说明两国在经济、外交政策等领域有着许多共同点，是影响国际关系的决定性因素
- ④ 是双方基于两国共同利益作出的战略选择，更是顺应世界发展大势的必然要求

- A. ①③                      B. ①④  
C. ②③                      D. ②④

19. 近期，电视剧《繁花》凭借其独特的叙事风格和浓郁的上海风情，成功吸引了大量观众的目光。随着该剧的播出，人们对上海的城市地理及人文历史的关注度不断攀升，从城市街道到影视基地，从美食店到美术馆……众多市民和游客 沉浸式“打卡”，掀起上海文旅的新热潮。这表明（ ）

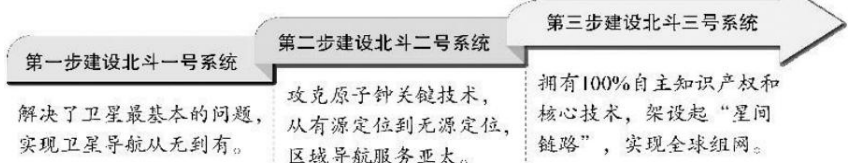
- ① 人民群众是文化成果的最终享有者和受益者
- ② 该剧电视剧作品积淀着中华民族最深层的精神追求
- ③ 一定的文化反作用于一定的经济，文与旅相伴，旅因文而兴
- ④ 维护好人民群众基本又化权益是发展社会主义文化的根本目的

- A. ①②                      B. ①③  
C. ②④                      D. ③④

20. 习近平总书记在“国家工程师奖”首次评选表彰之际作出重要指示强调：“希望全国广大工程技术人员坚定科技报国为民造福理想，勇于突破关键核心技术，锻造精品工程，推动发展新质生产力，加快实现高水平科技自立自强，服务高质量发展，为以中国式现代化全面推进强国建设、民族复兴伟业作出更大贡献。”这对广大青年的启示是（ ）

- ① 树立家国情怀，将实现中华民族伟大复兴的中国梦同个人理想相结合
  - ② 努力学习科学文化知识，不断增长科技强国本领与才干
  - ③ 发扬工匠精神，在学习和工作中尽最大努力避免失误
  - ④ 肩负“强国有我”的担当，勇于攻坚克难，推进中国式现代化
- A. ①③                      B. ①④                      C. ②③                      D. ②④

21. “河汉纵且横，北斗横复直。”浩瀚星空，几十颗由中国自主研发的北斗卫星导航系统的“中国星”正熠熠生辉。北斗卫星立项 30 年来的“三步走”一步比一步扎实，将 58 颗卫星一一送入浩瀚星河。对此，下列说法正确的是（ ）



- ① 每一步量的积累都为北斗卫星导航系统的建成奠定了基础
  - ② 北斗卫星导航系统建设的每一步都是自然发展的必然结果
  - ③ 科研人员充分发挥主观能动性对北斗卫星导航系统研发成功起到决定性作用
  - ④ 北斗卫星导航系统延伸了人们的认识器官从而提高了人们的认识能力
- A. ①③                      B. ①④                      C. ②③                      D. ②④

22. 2023 年 11 月 27 日，中共中央政治局召开会议，审议《关于进一步推动长江经济带高质量发展若干政策措施的意见》。会议强调，推动长江经济带高质量发展，要坚持省际共商、生态共治、全域共建、发展共享，提升区域交通一体化水平，深化要素市场化改革，促进区域协调发展。对上述会议要求解读正确的是（ ）

- ① 坚持省际共商才能充分发挥主观能动性，改变长江经济带固有联系
- ② 坚持生态共治是因为立足整体、统筹全局才能实现整体最优目标
- ③ 提升区域交通一体化水平有利于以关键部分的发展带动整体发展
- ④ 深化要素市场化改革是因为改革是推动社会发展的强大动力

- A. ①③                      B. ①④                      C. ②③                      D. ②④

23. “太行山上的新愚公”李保国 35 年如一日扎根太行山，以创新成果助力广大农民致富；“糖丸爷爷”顾方舟一生致力研究脊髓灰质炎防控，守护几代国人健康成长；植物学家钟扬长期致力于生物多样性研究和保护，16 年跋涉于青藏高原，为培养西部少数民族地区的植物学人才作出了重要贡献……这启示我们（ ）



- ① 应积极投身于为人民服务的实践，努力实现人生价值
  - ② 只有全面提升自身价值，才能把握住难得的人生机遇
  - ③ 拥有对社会的独特的贡献方式，才能正确处理好个人与社会的关系
  - ④ 只有为国家、社会、民族和集体奋斗的人生，才是真正有意义的人生
- A. ①③                      B. ①④                      C. ②③                      D. ②④

24. 战国时期，关东六国国君任相多用其宗族及国人。数代秦王所用秦相，商鞅为卫人，楼缓为赵人，张仪、魏冉、范雎为魏人，蔡泽为燕人，吕不韦为韩人，李斯为楚人。据此可推知（ ）

- A. 秦国官僚制十分成熟
- B. 秦国商鞅变法较为彻底
- C. 六国严格遵行宗法制
- D. 法家人物在六国遭排挤

25. 先秦贵族尚马车，贱牛车，此风秦汉犹存。及至东汉晚期，天子至士因牛车慢、稳、宽敞、严密，可障帷设几、任意坐卧而竞相乘坐，出行乘牛车遂成为一种风尚。这种“风尚”反映了（ ）

- A. 戒奢尚俭、讲究实用的社会风气
- B. 日暮途穷、追求奢逸的政治生态
- C. 重农抑商、奖励耕织的思想观念
- D. 豪强势重、世家兴起的时代景象

26. 唐代张彦远的《历代名画记》收录两汉及以前画家 16 人；收录魏晋南北朝时期画家 128 人，其中包括顾恺之、张僧繇等杰出画家。这一变化发生的主要原因是（ ）

- A. 纸张的普遍使用
- B. 雕版印刷的发明
- C. 北人的大量南迁
- D. 佛教道教广传播

27. 《元史》记载：“（大都）百司庶府之繁，卫士编民之众，无不仰给于江南”；明末大臣奏称：“国家财赋，专倚三吴，而苏(州)、松（江）独甲于天下”；康熙帝诗云：“东南财赋地，江左人文薮”。以上内容反映了（ ）

- A. 南宋时期，经济重心南移完成
- B. 元明清时期，经济重心一直在南方
- C. 元明清时期，政治重心依然在北方
- D. 元明清时期，经济格局发生重大变化

28. 1902 年有人在日记中写道：“今岁省城将一切书院改为大学堂，选才华秀美者入堂肄业，每月给薪水，所学以西法为要，有主教，有助教，以通西法者为之，此外又延洋夷为师（刻下尚未延来），在堂助教者，闻洋夷为师而告退之者数人，可谓有志气者矣。”这反映出（ ）

- A. 一些知识份子仍有排外倾向
- B. 作者主张中学为体、西学为用
- C. 新政中的各项改革成效显著
- D. 天朝上国的观念依旧十分盛行

29. 1914 年 9 月，北京政府颁布《商会法》，规定商会对各级地方官厅行文一律用“呈”“禀”，地方官厅对商会则用“令”“批”。该法一经颁布就遭到商界人士的强烈反对。这反映了当时（ ）

- A. 旧式文学与新式文学的矛盾
- B. 民国政府与守旧势力的斗争
- C. 改良道路与革命道路的碰撞
- D. 封建专制与民主思想的冲突

30. 1946 年 4 月，根据陕甘宁边区第三届参议会通过了《陕甘宁边区宪法原则》，以立法（宪法原则）的形式确立了人民代表会议制度，并于 1947 年召开了内蒙人民代表会议，同年 5 月内蒙古自治区宣告成立，1948 年 4 月开始积极推进包括各中间党派及民众团体的政协会议的开展。以上做法（ ）

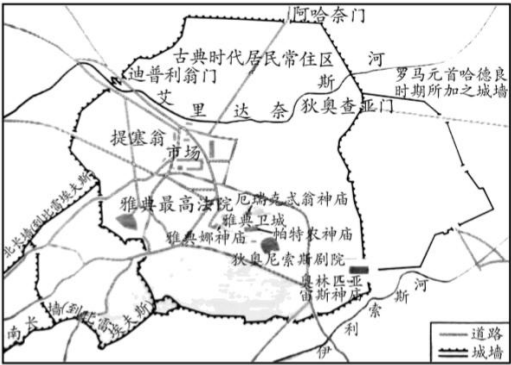
- A. 反映国家最高权力的重组
- B. 标志着三大制度的确立
- C. 助推民族民主革命的胜利
- D. 利于巩固革命统一战线

31. 1978 年 6 月，邓小平通过以和教育部部长刘西尧等人谈话的方式，决策向国外大规模派遣留学生，要求教育部按照“今年三千，明年一万（人）”的规模编制计划，而且首先向美国派遣留学生。这一年，我国还向 28 个国家派出了 480 多名留学生。这反映了当时中国（ ）

- A. 酝酿着工作重心的转移
- B. 与美国建立了外交关系
- C. 对外政策发生根本转变
- D. 基本完成教育体制转型

32. 右图是古希腊雅典城市平面示意图，这一城市布局（ ）

- A. 强调严格的等级尊卑观念
- B. 体现神权至上的政治理念
- C. 反映城市功能的多元特征
- D. 是雅典工商业发展的结果



33. 加尔文主张每个人都要以勤勉的态度努力完成上帝赐给他们的天职，用做好本职工作的办法来实现对上帝的赞美，一方面，事业的成功是基督徒的行为证明；另一方面，又需要克制自己过度的欲望，保持自我奋斗、节俭有度的理性生活。由此可知，加尔文的主张（ ）

- A. 完善了因信称义的思想理论
- B. 受启蒙运动精神内核的影响
- C. 推动了欧洲宗教改革的开始
- D. 适应了资本原始积累的需要

34. “两权分离”是指现代公司所有权与经营权的分离，20 世纪 30 年代以来，以美国为首的西方发达国家“两权分离”速度加快。下表为全美最大的 非金融公司中由经营者控制的公司数量和公司资产占比变化，这一变化（ ）

年份（年）	公司数量占比	公司资产占比
1929	44%	58%
1963	84. 5%	85%
1975	82. 5%	85. 4%

- A. 推动国家垄断资本主义模式的确立
- B. 发生于经济危机背景下的必然结果
- C. 导致社会阶层结构发生了根本改变
- D. 根源于科技发展及生产过程复杂化



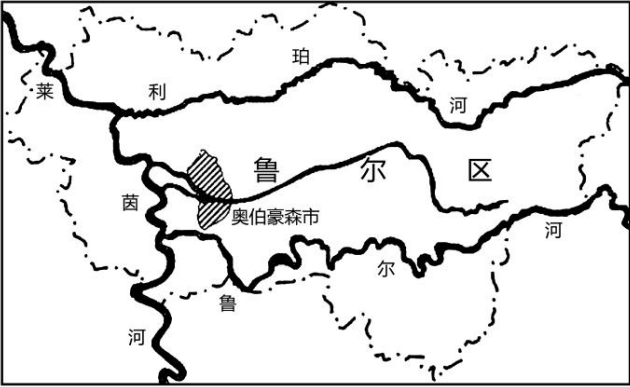
35. “尤里卡计划”在前法国总统密特朗提议下，于1985年发起，经过20年的发展，其成员国增加到36个，包括欧盟成员国和瑞士、土耳其等国。密特朗认为这项宏伟计划的实施，将使欧洲“能够掌握所有的高技术”。该计划的实施
- A. 确保西欧抵制苏联的扩张
- B. 反映国家强化对经济的干预
- C. 导致世界科技中心的转移
- D. 进一步推动多极化趋势发展

二、非选择题：共160分。第36~42题为必考题，每个试题考生都必须作答。第43~46题为选考题，考生根据要求作答。

(二) 必考题：共135分。

36. 阅读图文材料，完成下列要求。(24分)

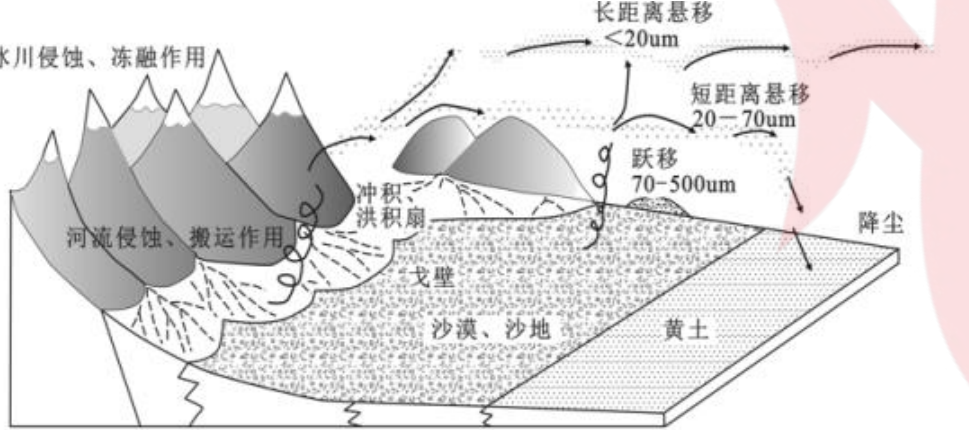
奥伯豪森市(图)原是德国鲁尔区一个重要的钢铁工业城市，工业衰落后，该地建成了完善的立体运输网络，并利用保存完好的厂房、生产设备、矿坑等建成了以工业景观为背景的欧洲大型购物中心。这里有许多品牌商店，也不乏物美价廉的商品，吸引了德国及周边国家的人们前来购物。



- (1) 分析奥伯豪森市转型后以服务业作为主导产业的原因。(6分)
- (2) 说出奥伯豪森市在转型发展过程中保留原有工业遗产的理由。(8分)
- (3) 指出奥伯豪森市利用工业遗产可发展的第三产业。(4分)
- (4) 分析奥伯豪森市转型建设大型购物中心的有利条件。(6分)

37. 阅读图文材料，完成下列要求。(22分)

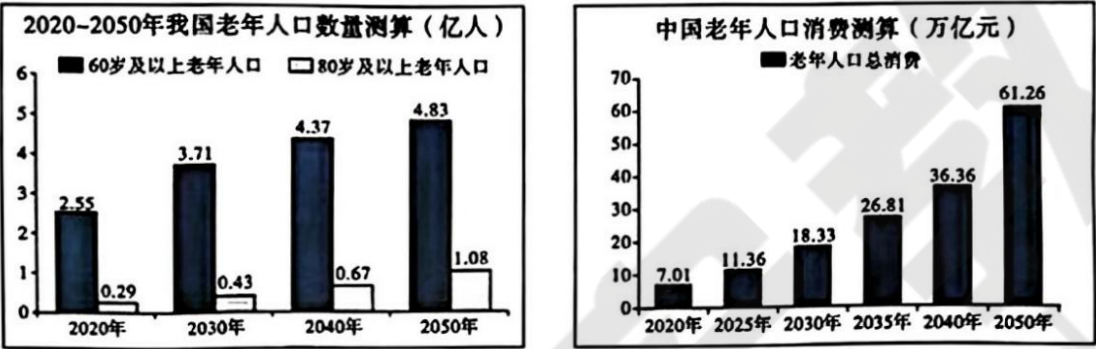
黄土高原的黄土主体由风力作用堆积而成，主要成分为粉砂质沉积物，总厚度从几十米到近400米不等。260万年以来，黄土高原的粉尘堆积主要来自青藏高原东北部。百万年时间尺度来看，全球气候发生多次冷暖交替变化，气温变化引起冰川外力作用及大气干湿发生改变，由此引起青藏高原东北部沙质物源改变；气温变化也引起冬季风力改变；以上变化让黄土沉积速率随之发生改变。下图示意黄土高原形成过程。



- (1) 简述不同粒径颗粒随风力运动特点的差异。(6分)
- (2) 说明青藏高原东北侧众多洪积扇的形成过程。(10分)
- (3) 从物源、动力条件推测全球变冷使黄土沉积速率增大的原因。(6分)

38. 为老年人提供服务和产品的经济方面内容被统称为“银发经济”。阅读图文资料，完成下列要求。(16分)

材料一 我国老年人口数量及消费测算



- (1) 概括材料一蕴含的信息。(4分)

材料二 数字技术的广泛应用搭建起了智能化、个性化应用场景，让老年群体办事更为便捷、生活更为丰富，能够满足老年群体多元化的服务需求，不断激发银发经济市场空间，赋能银发经济。

老年人的生活因数字化而更便利，但不少老年人使用互联网等智能设备，经常面临着不会用、不敢用、不想用、不能用等情况，难以平等共享出行、就医、社交、服务等方面的数字红利。同时，数字技术广泛应用于银发经济也需要关注网络诈骗、数据安全等问题。

- (2) 结合材料，运用《经济生活》知识，谈谈我国应如何使数字技术赋能银发经济、护佑幸福晚年。(12分)

39. 阅读材料，完成下列要求。(12分)

发展和安全是一体之两翼、驱动之双轮。

党的十八大以来，在以习近平同志为核心的党中央坚强领导下，以2015年公布并施行的国家安全法为领，反间谍法等20余部国家安全专门法律接连出台，110余部含有国家安全条款的法律法规相继制定修订。

2023年5月30日，习近平总书记主持召开二十届中央国家安全委员会第一次会议时强调，要正确把握重大国家安全问题，加快推进国家安全体系和能力现代化，以新安全格局保障新发展格局，努力开创国家安全工作新局面。

2023年1月至11月，检察机关推进扫黑除恶斗争常态化，共起诉涉黑恶犯罪1.2万人；坚决惩治危害安全生产犯罪；起诉金融诈骗、破坏金融管理秩序犯罪2.3万人……

2023年，公安机关推进扫黑除恶常态化，打掉涉黑恶犯罪组织1900余个；扎实推进反恐怖反分裂斗争，深化严打暴恐活动等专项行动；依法打击查处网络谣言等各类涉网违法犯罪活动，侦办相关案件19.2万起……

结合材料并运用政治生活知识，说明我国是如何提升国家安全治理效能的。(12分)

40. 阅读材料，完成下列要求。(24分)

材料一 泱泱中华，历史何其悠久，文明何其博大。2023年，中华优秀传统文化以多种多样的形式润泽着我们的精神生活：备受好评的杭州亚运会奖牌“湖山”，设计灵感就来自良渚玉琮，融入江南的涟漪湖水、起伏山峦，中华文化魅力通过大型国际体育赛事传递到世界各地；三星堆博物馆馆体在外形上与地貌、史迹和文物造型有机结合，不仅还原了历史现场，更将古老文明与现代审美融为一体，成为大众追寻文化遗迹、触摸文明的新的重要场域；被称为国家版本资源总库和中华文化种子基因库的中国国家版本馆，仅中央总馆入藏的版本量就达到了1600万余册；再现大唐盛世和诗人真挚友谊的动画电影《长安三万里》好评如潮，各大影院中更是上演了孩子们吟诵唐诗的场景……

- (1) 结合材料，运用文化生活知识，阐释我们是如何传承中华优秀传统文化以润泽精神生活的。(10分)



**材料二** 2023年7月25日下午和26日下午，习近平总书记在四川省广元市、德阳市分别考察了翠云廊古蜀道、三星堆博物馆，了解当地推进历史文化遗产、加强生态文明建设和历史文化遗产发掘研究、文物保护修复等情况。三星堆遗址位于四川省德阳市广汉市西北的鸭子河南岸，代表了距今4500-2900年间的古蜀文化面貌和发展水平，是同时期长江流域文化内涵最丰富、面积最大的都城遗址。三星堆博物馆新馆总建筑面积约5.44万平方米，总投资逾14亿元，2022年3月开工，2023年7月下旬开馆，是西南地区最大的遗址类博物馆单体建筑。三星堆博物馆新馆与一、二号馆共同组成三星堆博物馆群。新馆陈列面积2.2万平方米，展出文物1500余件（套），设“世纪逐梦”“巍然王都”“天地人神”三大部分。2021年正式投入使用的三星堆文物保护修复馆，坚持保护修复与考古研究同步进行，馆内分文保工作区和参观区。沉睡三千年，一醒惊天下。三星堆考古让古蜀文明之光再次闪耀。

（2）结合材料，运用矛盾的基本属性的知识，说明为什么对三星堆文化遗址既要保护又要适度开发？（12分）

（3）习近平总书记强调，要敬畏历史、敬畏文化，要像爱惜自己的生命一样保护好文化遗产。请你为保护文化遗产写两条宣传标语。要求：主题鲜明、朗朗上口。每条20字以内。（2分）

41. 阅读材料，完成下列要求。（25分）

**材料一** 西周时期，“乡”是较大的行政组织单位，乡里设置比长、闾胥、族师、党正、州长和长大夫等职。秦汉时期，郡下设县，县下采取乡里制度，三老有秩蔷夫游徼分布负责教育文化、政法、税收、治安工作。唐朝时期，乡作为行政单位依然保留，但权力开始虚化，仅仅负责礼仪教化之类的工作，而里正逐渐成为乡务的实际主持者。北宋时期乡里制被都保制取代，都保制在放贷、民防、赈灾和社会治安方面发挥着广泛的作用。随着理学的下乡，乡村宗族组织、士绅精英也加入乡村治理的队伍中来。明朝推行里甲制、保甲制，作为基层组织履行上级组织的职能，此外由退休官员、举人、贡生、秀才或童生构成的乡绅集团的影响巨大，作为充当精神领袖，管控乡村精神、道德、政治、经济、法律、文化的一切事务。清朝在基层治理上基本沿袭明制，并不断加强对保甲制度的控制和规范管理，将其由半自治性质的基层组织，逐渐内化为行政体系的一部分。

**材料二** 20世纪70年代，美国先后出台了《农村发展法》《农业与食品法》《农村发展政策法》等法规，涉及乡村的基础设施、金融服务、水利管网、住房、产业发展等多个方面。里根总统及其政府还提出了包括加强农村教育、建立地方信息机构、设立就业中心等内容的“乡村再生六点倡议”。农业部和州及地方政府相互配合，推动乡村制造业、服务业等新业态的发展，乡村多样化发展逐步缩小了城乡差距，乡村农业生产占比逐步降低，兼业化程度提升。20世纪90年代兴起城乡政策整合，政府通过政策的长期实施和不断优化，充分满足乡村发展的需求和推动农业市场化进程是该阶段乡村发展的政策重点。

—— 摘编自乔婷《发达国家和地区乡村振兴经验及借鉴》

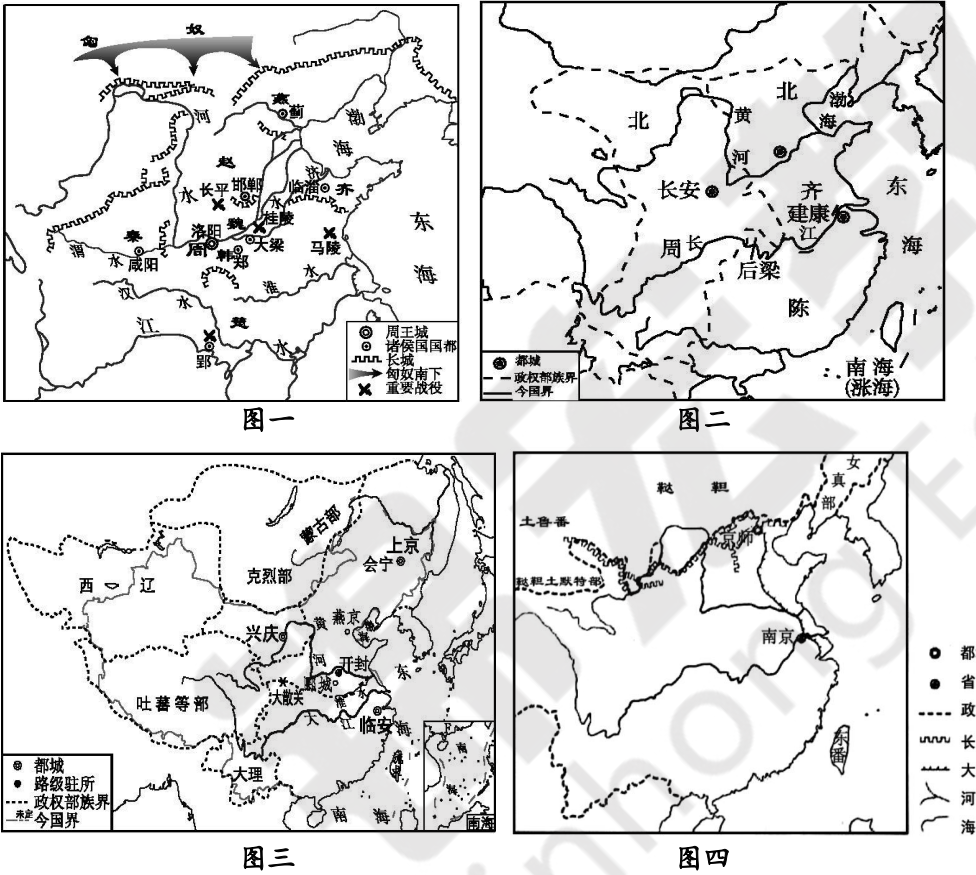
（1）根据材料一并结合所学知识，指出中国古代乡村治理的发展趋势，并简要评价中国古代乡村治理。（12分）

（2）根据材料二并结合所学知识，归纳美国乡村建设的特点。（8分）

（3）根据以上材料并结合所学知识，说明对当今乡村建设的启示。（5分）

42. 阅读材料，完成下列要求。（12分）

**材料** 一部中国史，就是一部各民族交融汇聚成多元一体中华民族的历史，就是各民族共同缔造、发展、巩固统一的伟大祖国的历史。以下是我国历史上四个时期的疆域图：



请根据四幅疆域图并结合所学知识,任选2-3幅提炼一个历史发展趋势并加以说明。（要求：列出所选地图，论题明确，持论有据，论证充分，表达清晰。）

（二）选考题：共25分。请考生从2道地理题、2道历史题中每科任选一题作答。并用2B铅笔在答题卡上将所选题目对应的题号方框涂黑。按所涂题号进行评分，不涂、多涂均按每科所答第一题评分。

43. 【地理——选修3：旅游地理】（10分）

中国是茶叶的故乡，也是世界茶文化的发源地。在数千年的茶叶开发利用过程中形成了丰富的茶文化旅游资源。茶区的自然资源为茶文化研学旅行的开发提供了良好的先天条件。如大红袍的产地武夷山、西湖龙井的产地西湖群山和黄山毛峰的产地黄山等都是我国重要的风景名胜区。在中华民族数千年的茶叶历史发展过程中，茶叶与民俗、宗教、历史等相互交融，成为我国传统文化的重要载体。下图示意研学茶区景观。



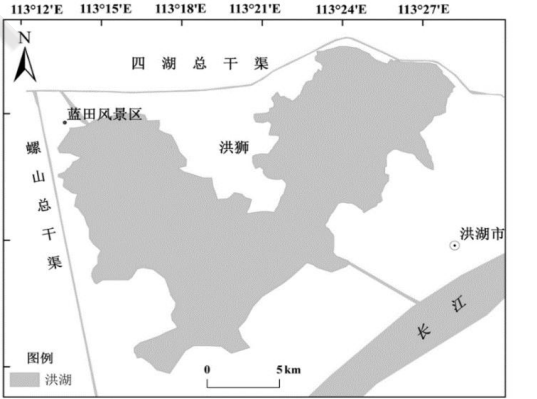
设计两项茶文化研学旅行的项目，说明开展茶文化研学旅行对茶区当地经济和研学体验者文化方面的积极影响。

44. 【地理——选修6：环境保护】（10分）

洪湖位于湖北省四湖流域的中区，洪湖市和监利县境内，是湖北省最大以及我国第七大淡水湖泊，担负着长江中游江汉平原地区的供水、调蓄、灌溉、渔业、科学研究、生物多样性保护等多种生态服务功能，同时也是航运和旅游的载体。现有研究表明，近二十年来，洪湖水环境恶化，洪湖湖区水体呈富营养化状态，超标污染物以氮磷和有机物为主。南部水域大部分是洪湖核心保护区和长江入湖区，是目前唯一可以观测到沉水植物成片分布的水域。整体上，洪湖南部水域水体氮磷浓度较低，但在冬季氮磷浓度高于东北、西北水域。

（1）指出洪湖氮磷污染物的主要来源。（4分）

（2）分析洪湖南部水域氮磷浓度整体较低但冬季高于其他水域的原因。（6分）



45. 【历史——选修1：历史上重大改革回眸】（15分）

**材料** 南宋朱熹等理学家认为（王安石）变法“轻用已私纷更法令，不能兴才教化，乃行青苗、建市易、置保甲、治兵将、始有富国强兵、窥伺边隅之计，弃诚而怀诈，兴利而忘义，尚功而悖道……下诬君父，上欺祖宗，三纲废坏。”

清代末年梁启超认为王安石是“三代以下唯一完人”，他认为青苗法和市易法实为近代文明国家的银行雏型，免役法则“与今世各文明国收所得税之法正同”，其变法是“国史上、世界史上最最有名誉之社会变革”。

20世纪30、40年代，史学家们也对王安石变法提出了自己的看法：周谷城提出变法动因“一曰外部的压迫，二曰内部的贫弱”；范文澜认为变法“急需加强军备”；钱穆提出变法“冗官不革，政治绝无可以推行之理”。

—— 摘编自何文国《王安石变法评价面面观》等

（1）根据材料并结合所学知识，简要概括不同时期对王安石变法的评价。（6分）

（2）根据材料并结合所学知识，简要分析他们的立场与动机。（9分）

46. 【历史——选修4：中外历史人物评说】（15分）

**材料** 贺麟(1902-1992)，中国著名哲学家、“新心学”的创建者。1917年后，出生于书香门第的贺麟先后就读于省立成属联中和清华学堂。1926年，贺麟先后赴美国及德国继续深造研究哲学，以期“知识救国”。在德国学习期间，贺麟试着把儒家传统哲学同西方哲学融合起来，并最终确立自己今后的学术研究方向。1931年，贺麟回国后在清华和北大任教。40年代，在充分理解了东西文化的异同之后，贺麟构建起一个严密的“新心学”理论体系。贺麟指出：近代中国之所以落后，其根本原因是因为传统的儒家文化，早已陷入了僵化、教条和固步自封的愚昧之中……只有让儒家文化充分吸收西方文化的优秀成果，在新时代新环境中推动其向前发展，才能重塑中国人的文化自信和文化品格，实现中华民族文化上的复兴。

—— 根据东周社《和美金堂▪大师贺麟》等整理

（1）根据材料并结合所学知识，分析贺麟创建“新心学”的历史背景。（8分）

（2）根据材料并结合所学知识，简要评价贺麟的观点。（7分）